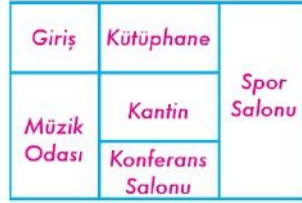


1- **Canlıların hayatlarını devam ettirmeleri için**

**Yukarıdaki cümle aşağıdaki ifadelerden hangisiyle tamamlanamaz?**

- A) su ve besine ihtiyaçları vardır.  
B) güneş yeter.  
C) sadece su ve hava yeterli olmaz.

2- **Okulun bir katını gösteren yandaki krokiye göre kütüphane doğuda olduğuna göre konferans salonu kütüphanenin hangi yönündedir?**



- A) kuzey B) doğu C) batı

3-	Bir yılda 4 mevsim vardır.
	Ocak, Şubat, Mart kış aylarıdır.
	İlkbaharda ağaçların yaprakları dökülür.

**Yukarıdaki tabloda doğru ifadelerin başına "D", yanlış ifadelerin başına "Y" yazdığımızda aşağıdakilerden hangisi oluşur?**

- A) 

D
Y
Y

 B) 

D
Y
D

 C) 

Y
D
Y

4- **Toprak ve kaya parçalarının yamaçlardan aşağıya doğru kaymasına ..... denir.**

**Yukarıdaki ifadede boş bırakılan yere hangisi yazılmalıdır?**

- A) çığ B) heyelan C) kasırga

5- **Aşağıdakilerden hangisi en kısa sürede doğaya karışıp, yok olur?**

- A)  B)  C) 

6- **Kâğıt atıkları geri dönüşüme kazandırdığımızda hangisinden tasarruf sağlamış oluruz?**

- A) doğal gazdan B) petrolden C) ormandan

7- **Aşağıdakilerden hangisi yandaki atık kutusuna atılmalıdır?**




- A) kırık camlar  
B) eski çelik tencere  
C) kullanılmış yoğurt kabı



8-  Yaşadığımız çevreyi temiz tutmazsak kendimiz dışında başka canlıların da sağlığını tehlikeye atmış oluruz.

**Hangisi Gönül Öğretmen'in söylediğine örnek olabilir?**



- A) Kirlenmiş bir göldeki balıkların ölmesi  
B) Kuşların başka ülkelere göç etmesi  
C) Ağaçların kesilerek yerine yenilerinin dikilmesi

9-  oyun  olta  odun

**Şekillerdeki kelimeler alfabetik sıraya göre dizildiğinde hangi şekil en sonda olur?**

- A)  B)  C) 

10- **Hangi öğrenci satır sonuna sığmayan kelimeyi yanlış yerden ayırmıştır?**

- A)  En sevdiğim oyun saklambaç oyunu.  
B)  Oyun oynamayı seviyorum.  
C)  Körebe oynarken çok eğleniyorum.

11- **Yandaki şiirin kaçınıcı dizisinde yazım yanlışı vardır?**

- A) birinci  
B) ikinci  
C) üçüncü

Yeşerdi çimenler, çayırlar  
süslendi kırlarla bayırlar.  
Çiçeklendi tepeler, dağlar.

12- **Şiddet ve korku ifade eden akıllı işaret hangisidir?**

- A)  B)  C) 

13- Aşağıdaki cümlelerin hangisinde noktalı yere "ama" yazılması uygun olmaz?

- A) Hemen yattım ..... çok yorgundum.  
B) Seni aradım ..... bulamadım.  
C) Hikayeyi okudum ..... çok iyi anlamadım.

14-



Tatilde en çok öğretmenimi özledim.

Filiz'in verdiği cevaba bakılırsa ona ne sorulmuş olabilir?

- A) Tatilde ne yaptın?  
B) Tatilde en çok kimi özledin?  
C) Tatilin nasıl geçti?

15-

Bahçedeki çiçekleri \_\_\_\_\_ sulayacağım.

Yukarıdaki cümlede boş bırakılan yere hangi sözcüğün yazılması uygun değildir?

- A) yarın B) az sonra C) dün

16- Yandaki kelimelerle anlamlı ve kurallı bir cümle oluşturduğumuzda hangi kelimeyi kullanmayız?



- A) sakladı B) bende C) eti

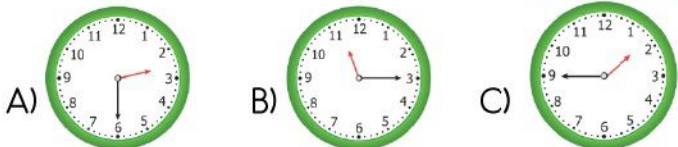
17- Yandaki cümleler oluş sırasına göre düzenlersek sıralama nasıl olur?

- A) 2 - 3 - 1  
B) 3 - 1 - 2  
C) 1 - 2 - 3

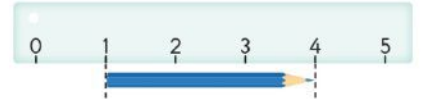
1. Masayı tekrar yerine yerleştirdi.
2. Hakan Bey, malzemeleri aldı.
3. Masanın ayağını tamir etti.

18- Yandaki dijital saatin analog saatte gösterilişi hangisidir?

01:45



19- Yandaki kalemin uzunluğu kaç santimetredir?



- A) 1 cm B) 3 cm C) 4 cm

20- Çevremizde gördüğümüz cep telefonlarının tahmini uzunluğu ne kadardır?

- A) 4 cm B) 15 cm C) 1 m

21- Yandaki saatin okunuşu hangisidir?

- A) Saat beşi çeyrek geçiyor.  
B) Saat dördü üç geçiyor.  
C) Saat üçe beş var.



22-



Yaz tatilinin 2 hafta 5 gününü köyde geçirdim.

Yukarıdaki ifadeye göre Çiğdem köyde kaç gün kalmıştır?

- A) 19 gün B) 17 gün C) 7 gün

23- Yandaki ifadelerin doğru olması için sembollerle gösterilen yerlere hangi sayılar yazılmalıdır?

- Bir hafta ▲. gündür.
- Bir yıl ☆. aydır.
- Bir gün ●. saattir.

- A) ▲ = 7  
☆ = 24  
● = 12
- B) ▲ = 12  
☆ = 7  
● = 24
- C) ▲ = 7  
☆ = 12  
● = 24

24- Aşağıdakilerden hangisi ilkbahar mevsiminin aylarından değildir?

- A) nisan B) mayıs C) haziran

25-



Hangi öğrenci kavunu sevdiğini söylemiştir?

- A) Melis B) Tuba C) Gözde

\*\*\*\*\* BAŞARILAR \*\*\*\*\*

Her soru 4 (dört) puandır.  
Cevaplarınızı kontrol ediniz.