

Adı:  
Soyadı:



**Türkçe - Matematik**  
**Tema Değerlendirme**



Tarih

1

Dört yüz elli iki bin yedi yüz yirmi üç

Yukarıda okunuşu verilen doğal sayının tekrar eden rakamlarının basamak değerleri toplamı kaçtır?

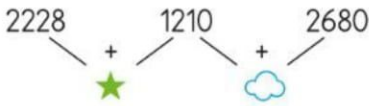
- A) 202 B) 2020  
C) 2200 D) 2220

2

"212 236" doğal sayısının onlar basamağındaki rakamı 2 azaltıp yüz binler basamağındaki rakamı 2 artırırsak yeni doğal sayı hangisi olur?

- A) 242 216 B) 402 216  
C) 402 256 D) 412 216

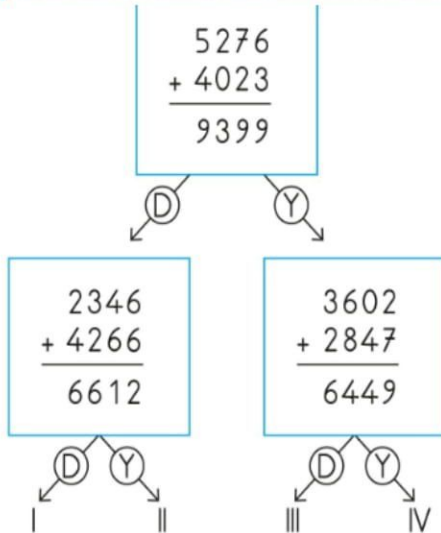
3



Yukarıdaki işlem şemasına göre  $\star + \text{cloud}$  işleminin sonucu kaçtır?

- A) 7028 B) 7128  
C) 7240 D) 7328

4



Yukarıda verilen toplama işlemlerinin doğru çıkışı aşağıdakilerden hangisidir?

- A) I B) II C) III D) IV

5

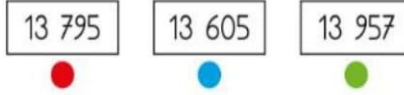


1. terim 2. terim 3. terim 4. terim

Yukarıdaki örüntünün 7. terimi aşağıdaki sayılardan hangisidir?

- A) 32 B) 33 C) 34 D) 35

6



Yukarıda verilen doğal sayıların küçükten büyüğe doğru sıralanışı hangi seçenekte verilmiştir?

- A)  $\bullet \bullet \bullet$  B)  $\bullet \bullet \bullet$   
C)  $\bullet \bullet \bullet$  D)  $\bullet \bullet \bullet$

7

8962

Yukarıda verilen doğal sayının altı çizili rakamlarının basamak değerleri toplamı aşağıdakilerden hangisidir?

- A) 802 B) 8002  
C) 8020 D) 8200

8

"917B" doğal sayısı en yakın onluğa yuvarlandığında 9170 olduğuna göre B aşağıdakilerden hangisi **olamaz**?

- A) 5 B) 4 C) 2 D) 1

9

4451 — 4500

7864 — 7800

1045 — 1000

3135 — 3100

Yukarıdaki doğal sayılardan kaç tanesi en yakın yüzlüğe doğru yuvarlanmıştır?

- A) 1 B) 2 C) 3 D) 4

10

21 105 > ..... > 21 087

Yukarıdaki karşılaştırmada noktalı yere aşağıdaki doğal sayılardan hangisi **ya-zı-lamaz**?

- A) 21 200 B) 21 100  
C) 21 090 D) 21 088

11

3, 6, 1, 0 rakamlarıyla oluşturulabilecek 3000'den büyük **en küçük** doğal sayı aşağıdakilerden hangisidir?

- A) 3106 B) 6130  
C) 3061 D) 3016

12

53 - 61 - 69 - 77 - 85

Yukarıdaki örüntünün kuralı ile aşağıdaki örüntülerden hangisinin kuralı aynıdır?

- A) 90 - 82 - 74 - 66 - 58  
B) 8 - 15 - 22 - 29 - 36  
C) 1 - 9 - 17 - 25 - 33  
D) 23 - 29 - 35 - 41 - 47

13

"12 - 24 - 36 - 47 - 60" sayı örüntüsünde kuralı bozan sayı hangisidir?

- A) 12 B) 24  
C) 36 D) 47

14

Aşağıdaki toplama işlemlerinden hangisinin sonucu **yanlıştır**?

- A)  $\begin{array}{r} 6543 \\ + 1214 \\ \hline 7757 \end{array}$  B)  $\begin{array}{r} 8285 \\ + 1714 \\ \hline 9999 \end{array}$   
C)  $\begin{array}{r} 1017 \\ + 2381 \\ \hline 3498 \end{array}$  D)  $\begin{array}{r} 7064 \\ + 103 \\ \hline 7167 \end{array}$

15

Aşağıdaki toplama işlemlerinden hangisinin toplamı **en büyüktür**?

- A)  $\begin{array}{r} 2317 \\ + 3132 \\ \hline \end{array}$  B)  $\begin{array}{r} 1260 \\ + 4227 \\ \hline \end{array}$   
C)  $\begin{array}{r} 4152 \\ + 1134 \\ \hline \end{array}$  D)  $\begin{array}{r} 5052 \\ + 1047 \\ \hline \end{array}$

Taha, izlediği çizgi filmde çok etkilenmişti. Çizgi filmdeki çocuk, dedesiyle bahçeye erik ağacı fidanı dikiyordu. Taha da bahçelerine erik ağacı fidanı dikmek istedi. Ama bu konu hakkında hiçbir bilgisi yoktu. Taha, bu konu hakkında bilgiyi nereden alacağını çok iyi biliyordu. Şehir kütüphanesine gitmek için evden çıktı. Oradaki görevlinin yanına gitti. Sessizce:

- Erik ağaçları hakkında bir kitap istiyorum, dedi.

Görevli, ona bir kitap getirdi. Taha, kitabı aldı. Bir masaya oturdu. Kitabı okudukça erik ağacı fidanını nasıl dikaacağı kafasında belirliyordu.

1-----  
Taha, izlediği çizgi filmde niçin etkilenmiş?

- A) Çizgi film heyecanlı olduğu için
- B) Çizgi filmdeki çocuk kendisine benzediği için
- C) Çizgi filmdeki çocuk dedesiyle erik ağacı diktiği için
- D) Çizgi filmdeki dedeyi çok sevdiği için

2-----  
Taha, erik ağacı hakkında bilgi almak için nereye gitmiş?

- A) Okula
- B) Dedesine
- C) Tarlaya
- D) Kütüphaneye

3-----  
Aşağıdakilerden hangisi metinden çıkarılacak bir sonuçtur?

- A) Erik ağaçları çok faydalıdır.
- B) Kitaplar, içerisindeki bilgilerle bizlere çok şey öğretir.
- C) Bütün çocuklar çizgi film izlemeyi sever.
- D) Kütüphanede sessiz olmalıyız.

4-----  
Aşağıdaki kelimelerden hangisi sırasıyla "4 harfli - 3 harfli - 2 harfli heceler"den oluşmuştur?

- A) yurdumuz                      B) şekerlik
- C) terlikler                        D) sertlikte

5-----  
Aşağıdaki kelimelerden hangisi ünlü ile başlayan bir ek aldığı orta hecesindeki ünlü düşmez?

- A) boyun    B) zihin    C) gelin    D) beyin

6-----  
Hale, mağazaların vitrinlerine bakarak bir süre yürüdü. Etekleri gül desenli elbiseyi görünce vitrinin önünde kalakaldı. Tam istediği gibiydi. Annesine, "Bana bu elbiseyi al." demek için kendini zor tutuyordu.

Yukarıdaki metinde geçen eş sesli kelimeler hangi seçenekte verilmiştir?

- A) zor - bir                      B) süre - elbise
- C) gül - al                        D) vitrin - bu

7-----  
Aşağıdaki cümlelerin hangisinde zıt anlamlı kelimeler bir arada verilmiştir?

- A) Konuşmaları duyunca arka kapıdan çıkıp gitmiş.
- B) Bu karanlık günlerin sonunda aydınlığa kavuşacağız.
- C) Çukura düşen kuzuyu köylüler kurtardılar.
- D) Soğuk günler geride kaldı, hava düzelmeye başladı.

8-----  
Aşağıdaki kelimelerden hangisi sözlükte diğerlerinden sonra yer alır?

- A) küçük    B) kütük    C) küspe    D) külçe

9-----  
Ayşe, kurallı cümlenin yazılı olduğu sokaktan okuluna gidecektir.



Buna göre Ayşe, hangi sokaktan okuluna gitmelidir?

- A) Şeker Sokak → Gül kokar benim memleketim.
- B) Gül Sokak → Su, sabahları erken kalkar.
- C) Güneş Sokak → Sevdik doyaysa papatyaları.
- D) Can Sokak → Can, akşam gitti Ankara'ya.

10-----  
→ Alînin kalemi uçlu değil.  
↪ Elif bu sabah derse geç geldi.  
↩ Yaren sütünü içmedi.  
↔ Şekercide çilekli şeker kalmamış.

Hangi şekil ile gösterilen cümle olumludur?

- A) →    B) ↪    C) ↩    D) ↔

11-----  
Aşağıdaki cümlelerin hangisinde duygusal bir ifade yoktur?

- A) Zavallı kedicik çok üşümüş.
- B) Seni tekrar gördüğüme çok sevindim.
- C) Ablamla alışverişe gideceğiz.
- D) Yarışma sonuçları açıklanacağı için çok heyecanlıyım.

12-----  
Aşağıdaki cümlelerin hangisinde ( ) içine üç nokta (...) gelmelidir?



- A) Sadık, bunu alır mısın( )
- B) Etrafta keskin bir ihlamur kokusu( )
- C) Eyvah, çocuk camı kırdı( )
- D) Hey( ) sana diyorum!

13-----  
Aysun( ) ablasına( )  
( )Ablacığım( ) bana bir masal anlatır mısın, diye sordu( )

Bu metinde ( ) içlerine sırasıyla hangi noktalama işaretleri yazılmalıdır?

- A) ( , ) ( ; ) ( - ) ( , ) ( . )
- B) ( , ) ( ; ) ( - ) ( ? ) ( . )
- C) ( , ) ( . ) ( - ) ( , ) ( ? )
- D) ( ; ) ( ; ) ( - ) ( , ) ( . )

14-----  
Aşağıdaki çocuklardan hangisi büyük harflerin yazımıyla ilgili yanlış yapmıştır?

- A)  Türk Dil Kurumu, Ankara'dadır.
- B)  Bugün almanca kursuna kayıt oldum.
- C)  Bora Bey, bize Oğuz dedeyi sordu.
- D)  Dünya, Güneşin etrafında dolanır.

15-----  
"502 098" sayısının yazılışı hangi seçenekte doğru verilmiştir?

- A) Beşyüz ikibin doksanssekiz
- B) Beş yüziki bin doksanssekiz
- C) Beş yüz iki bin doksanssekiz
- D) Beş yüzikibin doksanssekiz