

ZAMAN ÖLÇME

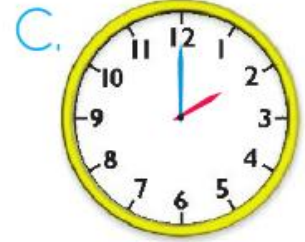
Adı Soyadı: _____

1. Yanda verilen saat kaç göstermektedir?

- A. 8
B. 10
C. 12



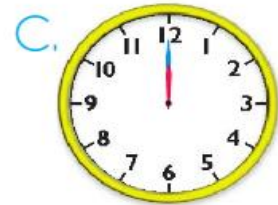
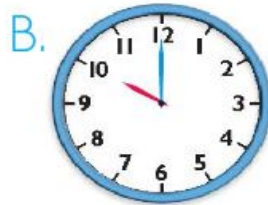
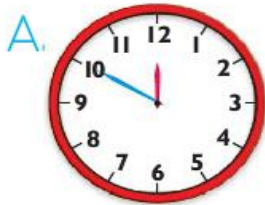
2. Verilen saatlerden hangisi 2'yi göstermektedir?



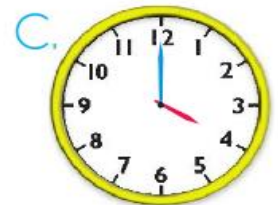
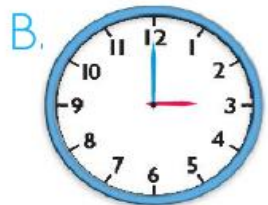
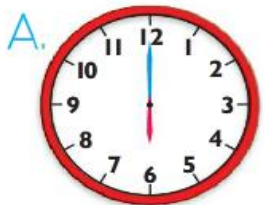
3. Akrep 4'ün, yelkovan 12'nin üzerinde olunca saat kaç gösterir?

- A. 2
B. 4
C. 12

4. Aşağıdaki saatlerin hangisinde yelkovan 12'nin, akrep 10'un üzerinde?



5. Sıla'nın doğum günü partisi saat 3'te başlayıp 3 saat sürecektir. Buna göre partinin bitiş saatini gösteren saat hangisidir?



6. Aşağıdaki ürünlerden en ucuzu hangisidir?



7. Kumbaradaki paranın 10 ₺ olabilmesi için ne kadar daha para atılmalıdır?



8. Cebimde 7 ₺ var. Yandaki kitabı alabilmek için kaç liraya daha ihtiyacım vardır?

A. 15

B. 14

C. 13



9. Buse, 8 ₺'ye defter, 3 ₺'ye de kalem alınca cüzdanında hiç parası kalmadı.

Buse'nin alışverişe çıkmadan önce cüzdanında kaç lirası vardı?

A. 5

B. 11

C. 17

10. Önder'in 16 ₺'si vardı. 8 ₺'sini kardeşine verdi.

Buna göre hangisi Önder'in kalan parasını göstermektedir?

