

Adım Soyadım: _____



3. SINIF / KAZANIM DEĞERLENDİRME SORULARI - 4

Hayvanlar doğal dengeyi korur, çevremizi zenginleştirir ve insanlara yardımcı olurlar. Bu yüzden hayvanlarla ilişkimiz tüm çevre için hayati öneme sahiptir. Onları anlamak, sevmek ve korumak gezegenimizin dengesini korumak için önemlidir. Hayvanlar, doğanın harika bir parçasıdır ve onlara olan sorumluluğumuzu unutmamalıyız.

(1, 2 ve 3. soruları yukarıdaki metne göre cevaplayalım.)

1. İnsanlar hayvanları neden korumalıdır? Yazalım.

2. Gezegenimizin dengesini korumak için önemli olan nedir?

3. Bu metnin konusu nedir?

4. Hangi noktalama işaretinden sonra yazımıza büyük harfle devam etmeyiz?

- a) ? b) • c) ,

5. Hangi cümlede kesme işareti kullanılması gerekir?

- a) Ankaradan mı geldin?
b) İstanbul en büyük ilimizdir.
c) Ülkemi çok seviyorum.

Anlamı: Karşılığını ödemediğinde insan istediğini elde edebilir.

6. Yukarıda anlamı verilen atasözümüz hangisidir?

- a) Parayı veren düdüğü çalar.
b) Komşu komşunun külüne muhtaçtır.
c) Damlaya damlaya göl olur.

- 271 • 966
• 404 • 325
• 590 • 789

7. Yukarıdaki sayılardan kaç tanesi çift sayıdır?

- a) 5 b) 4 c) 3

36A

8. Yukarıdaki sayı üç basamaklı bir tek sayıdır. Buna göre A yerine hangi sayı yazılamaz?

- a) 1 b) 2 c) 3

9. Hangi toplama işleminin sonucu çift sayıdır?

- a) $33+54$ b) $40+25$ c) $63+17$

9,6,3

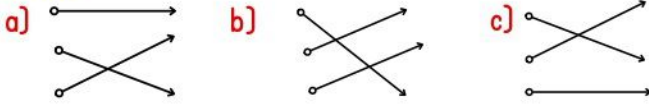
10. Yukarıdaki rakamlarını birer kez kullanarak oluşturabileceğimiz üç basamaklı en büyük çift sayı kaçtır?

- a) 936 b) 963 c) 396



XIX 15
XV 9
IX 19

11. Yukarıdaki eşleştirme doğru yapıldığında oklar nasıl görünür?



12. Ilgın asansörle on ikinci kata çıkacaktır. Buna göre Ilgın hangi tuşa basmalıdır?


a) XII b) IIX c) XIX

13. Hangisi duyu organlarımızdan biri değildir?



14. Aşağıdaki olayların hangisinde birden fazla duyu organı kullanılmıştır?

a) Parfüm koklamak
b) Kuşun sesini dinlemek
c) Televizyon izlemek



15. Yukarıdaki aynı renkli içecekleri ayırt etmek için hangi duyu organımızı kullanırız?

a) göz b) dil c) deri

- En büyük duyu organımızdır.
- Terleme yoluyla vücuttaki zararlı maddeleri dışarı atar.

16. Yukarıdaki bilgiler hangi duyu organımıza aittir?

a) burun b) kulak c) deri

- Dengeli bir şekilde yürümemizi sağlar.
- Etrafımızdaki sesleri algılayıp beynimize iletir.

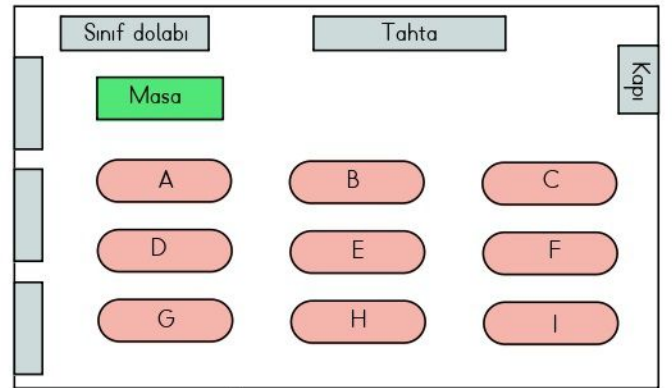
17. Yukarıdaki bilgiler hangi duyu organımıza aittir?

a) kulak b) dil c) göz

18. Kroki ile ilgili verilen bilgilerden hangisi doğru değildir?

- a) Okulumuzun mahalledeki yerini kroki çizerek anlatabiliriz.
b) Her şeyi ayrıntılı çizmeliyiz.
c) Geometrik şekillerden faydalanabiliriz.

(19 ve 20. soruları aşağıdaki krokiye göre cevaplayalım.)



Örnek: 3/C sınıfı krokisi

19. Kapiya en uzak sırada oturan öğrenci hangisidir?

a) H b) G c) I

20. Orta sıranın en arkasında oturan öğrenci kimdir?

a) B b) D c) H