

TIYATRO SEÇMELERİ

Okulda tiyatro gösterisi düzenlenecekti. "Kırmızı Başlıklı Kız" oyunu oynanacaktı. En sevdiğim oyundur. Seçmeler okulun konferans salonunda yapılıyordu. Bu seçmelere benim de girmem gerekiyordu. Çünkü en sevdiğim oyundu.



Heyecanla konferans salonuna

doğru yürüdüm. Kurt rolünü oynayacak kişi belliydi. Kırmızı Başlıklı Kız rolüne kimin seçileceğine henüz karar verilmemişti. Sıram gelmişti. Sözleri ezbere biliyordum. Hatta tüm karakterlerin sözlerini ezberlemiştim. Sahneye çıktığımda derin bir nefes aldım. Evet, artık hazırdım. Tüm dikkatler benim üzerimdeydi. Sanki o kırmızı başlığı olan kız benmişim gibi oynadım. Sahneden indim. Artık sonuçları bekleyecektik.

Bir sonraki gün sonuçlar açıklandı. Ben seçilmiştim. Hem de açık ara farkla seçilmiştim. Çok mutlu oldum. Hayalimi gerçekleştirmeye az kalmıştı.

SORULAR


1. Okulda hangi oyun oynanacaktı? 3. Metnin ilk cümlesi nedir?

2. Seçmeler nerede yapılıyordu?

4. Metnin başlığı nedir?

Metni seri okuyana kadar okuyalım.


✏️ Aşağıdaki resmi boyamak için yönergeleri okuyalım. Okuduğumuz bu yönergelere göre resmi boyayalım. Yönergenin dışında kalan yerleri istediğimiz renge boyayalım.



YÖNERGELER

- ➔ Kaleyi siyaha boya.
- ➔ Topu siyaha ve beyaza boya.
- ➔ Yerleri kahverengiye boya.
- ➔ Çocukların şortlarını yeşile boya.
- ➔ Merdivenleri kırmızıya boya.
- ➔ Duvarları boyama.
- ➔ Potayı turuncuya boya.
- ➔ Çocukların atletlerini maviye boya.

✎ Aşağıdaki kelimeleri sözlükteki yerlerine göre örnekteki gibi numaralandırabilirim.



✎ Aşağıdaki kelimeleri sözlükteki yerlerine göre sıralayalım.

	Karga	1.	
	Deniz	2.	
	Lamba	3.	

	Zürafa	1.	
	Yosun	2.	
	Üzüm	3.	

	Faruk	1.	
	Deste	2.	
	Gamze	3.	

	Okan	1.	
	Pınar	2.	
	Leyla	3.	

 Aşağıdaki sözcükleri örnekteki gibi hecelerine ayırıp hece sayılarını yazalım.

 3 kitaplık
 tren
 aile

 dörtlü
 kelime
 balık

 kelebek
 yasa
 kurt

 plan
 tencere
 sözlük

 Aşağıda sözcükleri hecelerine ayıralım.

kaptan →

şişe →

ağaçlar →

serçe →

yaprak →

kalp →

domates →

tunç →

 Aşağıda karışık olarak verilen hecelerden anlamlı kelimeler oluşturalım.

 ta-lık-sa-la

 rım-ya

 niz-de-ci

→

→

→

 kar-sa-lık

 fon-le-te



 viz-yon-le-te

→






→

→

✎ Aşağıdaki cümlelerin sonuna gelmesi gereken noktalama işaretlerini örnekteki gibi işaretleyelim.

CÜMLELER		?	.
	Bunlardan hangisini alacaksın	<input checked="" type="checkbox"/>	<input type="checkbox"/>
	Markete birlikte gidelim	<input type="checkbox"/>	<input type="checkbox"/>
	Kardeşin yarın gelecek	<input type="checkbox"/>	<input type="checkbox"/>
	Çayına kaç şeker attı	<input type="checkbox"/>	<input type="checkbox"/>
	Kitap okumayı seviyor musun	<input type="checkbox"/>	<input type="checkbox"/>
	Televizyonu çok yakından izleme	<input type="checkbox"/>	<input type="checkbox"/>
	Saat kaçta parka gideceksiniz	<input type="checkbox"/>	<input type="checkbox"/>


✎ Aşağıdaki cümlelere gelmesi gereken noktalama işaretlerini eşleştirelim.

 Ali() Okan futbol oynuyorlar.	<input type="checkbox"/> Kesme işareti
 Erhan()ın dedesi iyi bir insan.	<input type="checkbox"/> Soru işareti
 Aaaa() Yine aynı kazağı giymiş.	<input type="checkbox"/> Nokta
 Neden o kitabı okumadın()	<input type="checkbox"/> Virgöl
 Saat 12()00'de eve geçeceğim.	<input type="checkbox"/> Ünlem işareti

✎ Aşağıdaki sözcüklerin zıt anlamlılarını bulmacada uygun olan yerlere yazalım.



1. TAZE
2. ALÇAK
3. ŞİŞMAN
4. SAĞ
5. ÖN
6. DOĞU
7. KÜÇÜK
8. ZENGİN
9. ZOR



✎ Aşağıdaki altı çizili sözcükleri zıt anlamlılarıyla değiştirerek cümleleri yeniden yazalım.

Biber çok acıdı.



Zürafanın boyu çok uzun.



Satın aldığı kıyafet inceydi.




Yaşlı adam gazete okuyordu.



Fırından taze ekmek aldı.



 Aşağıdaki problemleri dikkatle okuyalım. Problem çözme adımlarını uygulayarak soruları çözelim.



Annem pazardan 19 yumurta aldı. Aldığı yumurtaların 8 tanesi kırıldı geriye kaç yumurta kaldı?

Çözüm:



Bir barınakta 4 kedi, 5 köpek vardır. Barınağa 4 kedi, 2 köpek daha gelirse toplam hayvan sayısı kaç olur?

Çözüm:



Toplamları 15 olan iki sayıdan biri 6'dır. Diğer sayı 10 sayısından kaç eksiktir?

Çözüm:



Aycan 20 sorudan 6'sını boş bırakmış, 5 tanesini yanlış cevaplamıştır. Buna göre Aycan kaç soruyu doğru cevaplamıştır?

Çözüm:



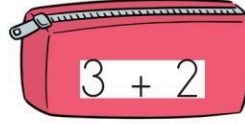
8 sayısının 3 eksiği ile 6 fazlasının toplamı kaçtır?

Çözüm:



1 onluk, 4 birlikten oluşan sayı bir desteden kaç fazladır?

Çözüm:



Yukarıda, bir alışveriş mağazasında satılan ürünler ve fiyatları belirtilmiştir. Verilenlere göre soruları cevaplayalım.



Bir kalemlik ve 1 çorabın toplam fiyatı kaç liradır?



Çözüm:



Bir şapka ve 1 ayakkabının toplam fiyatı kaç liradır?



Çözüm:



1 kazak alıp satıcıya 20 lira veren biri kaç lira para üstü alır?



Çözüm:



Fiyatları aynı olan ürünlerden birer tane alan biri kaç lira öder?



Çözüm:



Fiyatı en fazla ve en az olan ürünün farkı kaçtır?



Çözüm:



14 lirası olan Elif'in bir ayakkabı ve bir şapka almak için kaç liraya daha ihtiyacı vardır?



Çözüm:



18 tane oyuncağın 5'i ayıcık, 6'sı oyuncak araba geri kalanlar ise oyuncak bebeklerdir. Buna göre oyuncak bebeklerin sayısı kaçtır?



Çözüm:



Ümit dün 2 sayfa, bugün 5 sayfa kitap okumuştur. Ümit iki günde 10 sayfadan kaç sayfa eksik kitap okumuştur?



Çözüm:



Ada 6 yaşındadır. Selin, Ada'dan 3 yaş büyüktür. Selin ile Ada'nın yaşları toplamı kaçtır?



Çözüm:



Kemal'in 18 lirası vardır. Kemal 5 lirasıyla kalem, 8 lirasıyla defter almıştır. Kemal'in kaç lirası kalmıştır?



Çözüm:



Bir baloncu elinde bulunan 19 balondan 9 tanesini sattı. Baloncunun elinde toplam kaç balon kaldı?



Çözüm:



Bir tarlada 5 elma ağacı, 8 kiraz ağacı vardır. Bu tarlada bulunan bu iki ağaç türünün toplamı kaçtır?



Çözüm:



Suna markkettten aldığı 20 yumurtanın 5 tanesini eve getirirken kırmıştır. Suna'nın eve sağlam olarak getirdiği kaç yumurta vardır?



Çözüm:



Annemin verdiği 15 cevizin 3 tanesini Suna'ya, 6 tanesini Cem'e verdim. Benim kaç cevizim kalmıştır?



Çözüm:



Ege'nin 8 balonu vardır. Mert'in balonları Ege'den 5 tane eksiktir. Mert ile Ege'nin balonlarının toplamı kaçtır?



Çözüm:



Bir sınıfta 8 erkek öğrenci, erkek sayısından 6 fazla kız öğrenci vardır. Bu sınıftaki toplam öğrenci sayısı kaçtır?



Çözüm:



Serpil, pazardan 8 tane ananas, ananas sayısından 3 fazla kivi aldı. Serpil'in pazardan aldığı ananas ve kivi sayısının toplamı kaçtır?



Çözüm:



Fatih bir günde 6 saat, Emre ise 8 saat uyumaktadır. Emre ile Fatih'in bir günde uydukları saat arasındaki fark kaçtır?



Çözüm:



Ece'nin 5 tokası vardı. Ece'ye annesi 4, halası 8 toka aldı. Ece'nin toplam kaç tokası oldu?



Çözüm:



Bir minibüste bulunan 18 yolcudan 6 tanesi birinci durakta, 5 tanesi ikinci durakta inmiştir. Bu minibüste son durumda kaç yolcu kalmıştır?



Çözüm:



18 misketi olan Tuna, 8 misketini arkadaşına vermiştir. 3 misketini ise kaybetmiştir. Tuna'nın kaç misketi kalmıştır?



Çözüm:



Selim'in 6 kalemi vardır. Selim'in abisinin kalem sayısı Selim'den 8 fazladır. Selim ile abisinin kalemlerinin toplamı kaçtır?



Çözüm:

➔ Aşağıda verilen ifadeleri cümlelerdeki noktalı yerlere yazalım.

Ramazan Bayramı

23 Nisan

30 Ağustos

Kurban Bayramı

29 Ekim



Yönetim şeklimizin ilan edildiği tarihinde her yer bayraklarla donatılır.



İhtiyaç sahiplerine et dağıtılan ve dayanışmanın arttığı dini bayramımız'dir.



Dünyadaki tek çocuk bayramı olan neşeyle kutlanır.



Kurtuluş Savaşı'nın başarıyla sonuçlandığını müjdeleyen milli bayramımızdır.



Oruç ibadetinin ardından gelen, tatlıların ikram edildiği bayram'dir

➔ Aşağıdaki konuşma balonlarını bayramın türüne göre tamamlayınız.



Öğretmenim, bugün okulumuzda bando takımı yürüyecek ve ben şiir okuyacağım!

Mehmet hangi tür bayramı kutluyor? (.....)



Bugün erkenden kalkıp en güzel kıyafetlerimi giydim, dedemin elini öptüm ve bana bayram harçlığı verdi.

Eda hangi tür bayramı kutluyor? (.....)