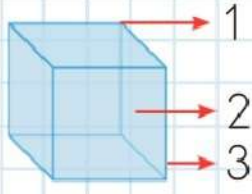





2/A Sınıfı Çalışmaları 6.Sınav

1. Yandaki geometrik cismin köşe, ayrıt ve yüzeyi rakamlarla gösterilmiştir.



Buna göre hangisi doğrudur?


	Köşe	Ayrıt	Yüzey
A.	2	3	1
B.	1	3	2
C.	1	2	3

2.  Bir kümeste 3 tavuk ve 2 horoz vardır. Bu kümesteki tavuk ve horozların ayaklarının toplam sayısı kaçtır?

 Çözüm:

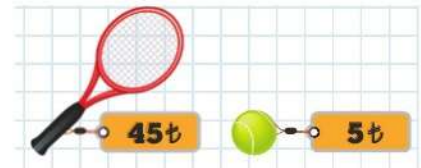
3.  Bir kırtasiyeci günde 10 tane kalem tıraş satarsa kaç lira kazanır?

 Çözüm:

4.  Bir sepette 6 yumurta olduğuna göre 5 sepette kaç yumurta olur?


 Çözüm:

- 5.



Beren 3 tane tenis topu ve bir raket aldı. Satıcıya 70 lira verirse kaç lira para üstü alır?

 Çözüm:



2/A Sınıfı Çalışmaları

11.



2 düzine çiçeği 3 vazoya paylaştırırsam her vazoya kaç tane çiçek düşer?

Çözüm:

12.



Kasadaki 20 elma, 4 sepete eşit olarak paylaştırılırsa her sepette kaç elma olur?

Çözüm:

13.



⇒ 6 TL

2 kutu meyve suyunun fiyatı 6 ₺'dir. 10 kutu meyve suyu alırsak kaç lira öderiz?

Çözüm:

14.



Erdi'nin 28 cevizinin 7 tanesini yedi. Kalan cevizlerini 3 arkadaşına eşit şekilde paylaştırdı. Her birine kaç ceviz düştü?

Çözüm:

15.

Ercan'ın yaşının 5 katı 25'tir. Ercan 2 yıl sonra kaç yaşında olur?

Çözüm: