

 Aşağıdaki metinleri tekrar ederek akıcı okuyalım.

YAŞAR



Yaşar beş şeker almış.
Beş şekeri de bitirmiş.
Beş şeker çok gelmiş.
Kaşınmaya başlamış.
Şeker, Yaşar'a yaramamış.
Yaşar, şekere yanaşmamış.

DIŞ



Bayram gelmiş.
Şule çok şeker yemiş.
Şule'nin dişleri çürümüş.
Şule dişçiye gitmiş.
Dişçi bakmış, bakmış.
Beş tanesi çürük demiş.

KUŞ


Şirin kuş dala konmuş.
Kuş sonra daldan düşmüş.
Düşmesine çok şaşırılmış.
Başka bir dala konmuş.
O daldan düşmemiş.
O dal biraz büyükmüş.



IŞIK

Şadi ışıklara dikkat et.
Kırmızı ışıpta dur.
Sakın geçme.
Yeşil ışıpta geç.
Renklerini şaşırma.
Kırmızı dur, yeşil geç.



 Aşağıdaki hızlı okuma metinlerini tekrar ederek akıcı okuyalım.

Kuş



Kuş uçtu.
Kuş köşeye uçtu.
Kuş şu köşeye uçtu.
Şaşkın kuş şu köşeye uçtu.
Kuş şu köşeye uçtu.
Kuş köşeye uçtu.
Kuş uçtu.
Kuş

Yaş



Şule yaş.
Şule taş yaş.
Şule beş taş yaş.
Şule şu beş taş yaş.
Şule beş taş yaş.
Şule taş yaş.
Şule yaş.
Yaş

Yemiş.

Eşek yemiş.
Eşek ot yemiş.
Eşek yeşil ot yemiş.
Eşek taze yeşil ot yemiş.
Eşek yeşil ot yemiş.
Eşek ot yemiş.
Eşek yemiş.
Yemiş.



Şenay

Şenay yeme.
Şenay şeker yeme.
Şenay şekerli şeyleri yeme.
Şenay şu şekerli şeyleri yeme.
Şenay şekerli şeyleri yeme.
Şenay şeker yeme.
Şenay yeme.
Şenay



Metni ve tekerlemeyi okuyalım. Aşağıdaki kuşları metinde anlatılan renklere boyayalım.

KUŞLAR

İki şirin kuş meşe dalına konmuş. Neşeli neşeli ötüyorlarmış. Biri şarkı söylerken öteki şiir okuyormuş. Kuşlardan biri yeşil, biri de mormuş. Mor kuş ile yeşil kuş kardeş gibilermiş. Mor kuşun ayakları sarı renkmış. Yeşil kuşun ayakları gri renkmış.

Mini mini bir kuş donmuştu.

Şemsiyeme konmuştu.

Aldım onu içeriye.


Ateş yaktım ısınsın diye.

Isındıktan sonra

Neşeyle kanatlandı.

Dışarıya çıktı

Ellerim bomboş kaldı.



OKUMA SAYISI	OKUMA SÜRESİ	YANLIŞ OKUNAN KELİME SAYISI
1.		
2.		
3.		
4.		
5.		

Aşağıdaki metni okuyalım. Metnin altında yer alan soruları cevaplayalım.

ŞAKİR

Şakir şekerli şeyler yemiş. Şekerli gıdalar dişleri çürütür. Şakir'in de dişleri çürümüş. Şakir çarşamba günü diş doktoruna gitmiş. Diş doktoru Şakir'in dişlerini incelemiş. Şakir'e çok şeker yemişsin. Dişlerini de temizlememişsin, demiş. Şakir doktora şaşkın şaşkın bakmış. Doktor Şakir'in çürüyen dişlerini çekmiş. Şakir çok üzülmüş ama iş işten geçmiş. Şakir kendi kendine karar almış. "Şişe şişe süt içeyim. Dişlerimi temiz tutayım." demiş.



Şakir'in dişleri neden çürümüş?

Çürüyen dişlere ne olmuş?

Şakir ne içmek istemiş?

Kola

Gazoz

Süt

OKUMA SAYISI	OKUMA SÜRESİ	YANLIŞ OKUNAN KELİME SAYISI
1.		
2.		
3.		
4.		
5.		

Aşağıdaki cümlelerde boş bırakılan yerlere görsellerden uygun olanın adını yazalım.

Şeyma çaya attı.



Gülşen ile yazı yaz.



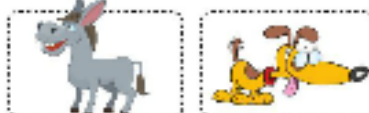
Büşra, bebek için aldı.



..... Dünya'mızı ısıtır.



Ayşe, bak anırdı.



Şaban dikkat et yakar.



Neşe annene al.



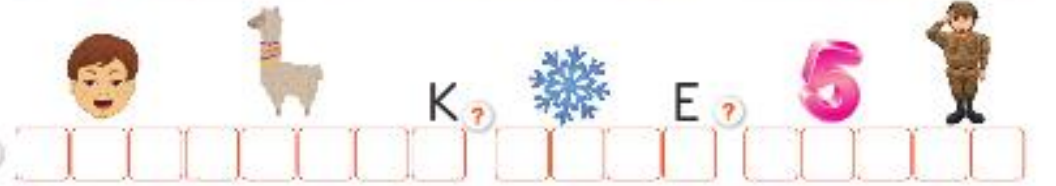
Yazın giyerim.



Şakir şiiri kere oku.



Aşağıda verilen resfebeleri örnekteki gibi bulup altlarındaki kutucuklara yazalım.



Aşağıdaki çıkarma işlemlerini yapınız.

$3 - 1 = \dots$

$4 - 1 = \dots$

$5 - 3 = \dots$

$5 - 2 = \dots$

$7 - 3 = \dots$

$6 - 4 = \dots$

$8 - 4 = \dots$

$9 - 1 = \dots$

$7 - 6 = \dots$

$8 - 5 = \dots$

$10 - 2 = \dots$

$9 - 8 = \dots$

$$\begin{array}{r} 5 \\ - 1 \\ \hline \dots \end{array}$$

$$\begin{array}{r} 6 \\ - 2 \\ \hline \dots \end{array}$$

$$\begin{array}{r} 4 \\ - 2 \\ \hline \dots \end{array}$$

$$\begin{array}{r} 2 \\ - 1 \\ \hline \dots \end{array}$$

$$\begin{array}{r} 9 \\ - 4 \\ \hline \dots \end{array}$$

$$\begin{array}{r} 7 \\ - 2 \\ \hline \dots \end{array}$$

$$\begin{array}{r} 5 \\ - 4 \\ \hline \dots \end{array}$$

$$\begin{array}{r} 8 \\ - 6 \\ \hline \dots \end{array}$$

$$\begin{array}{r} 9 \\ - 5 \\ \hline \dots \end{array}$$

$$\begin{array}{r} 7 \\ - 6 \\ \hline \dots \end{array}$$

Aşağıdaki toplama işlemlerini yapınız.

$3 + 2 = \dots$

$1 + 4 = \dots$

$5 + 3 = \dots$

$4 + 4 = \dots$

$5 + 2 = \dots$

$6 + 3 = \dots$

$6 + 1 = \dots$

$1 + 7 = \dots$

$3 + 7 = \dots$

$8 + 2 = \dots$

$7 + 4 = \dots$

$5 + 9 = \dots$

$$\begin{array}{r} 5 \\ + 4 \\ \hline \dots \end{array}$$

$$\begin{array}{r} 4 \\ + 3 \\ \hline \dots \end{array}$$

$$\begin{array}{r} 2 \\ + 2 \\ \hline \dots \end{array}$$

$$\begin{array}{r} 3 \\ + 8 \\ \hline \dots \end{array}$$

$$\begin{array}{r} 1 \\ + 4 \\ \hline \dots \end{array}$$

$$\begin{array}{r} 7 \\ + 8 \\ \hline \dots \end{array}$$

$$\begin{array}{r} 6 \\ + 6 \\ \hline \dots \end{array}$$

$$\begin{array}{r} 8 \\ + 4 \\ \hline \dots \end{array}$$