






Etkinlik: Aşağıdaki bölme işlemlerini çözünüz. Uygun renklerle boyayınız.


 $35 \div 5 = A$


 $10 \div 5 = E$


 $A = \text{Yeşil}$


 $E = \text{Kırmızı}$


 $18 \div 2 = B$


 $20 \div 4 = F$

 $B = \text{Mavi}$


 $F = \text{Turuncu}$


 $16 \div 2 = C$

 $12 \div 3 = G$


 $C = \text{Pembe}$


 $G = \text{Kahverengi}$

 $24 \div 4 = D$

 $9 \div 3 = H$

 $D = \text{Sarı}$

 $H = \text{Siyah}$



Bölme İşlemi

Etkinlik: Aşağıdaki bölme işlemlerini yapınız. Sonuçları aynı olan işlemlerin yıldızlarını aynı renge boyayınız.

$$24 \overline{)4}$$



$$27 \overline{)3}$$



$$18 \overline{)2}$$



$$25 \overline{)5}$$



$$12 \overline{)3}$$



$$16 \overline{)2}$$



$$20 \overline{)5}$$



$$15 \overline{)3}$$



$$30 \overline{)5}$$



$$32 \overline{)4}$$



Etkinlik: Aşağıdaki problemleri çözünüz.

→ Emel Hanım, 21 tane kurabiyeyi 3 çocuğuna eşit olarak veriyor. Her çocuğun kaç kurabiyesi olur?

→ 14 kalem 2 kalemlige eşit olarak koyuluyor. Her kalemlikte kaç kalem olur?


→ 18 elma 3 sepete eşit olarak yerleştiriliyor. Her sepette kaç elma olur?

→ 10 çiçeği 5 saksıya eşit şekilde eklemek istersek her saksıya kaç çiçek eklemeliyiz?

→ Her gün eşit sayıda sayfa okuyarak 36 sayfa kitabı 4 günde bitiren Sude, bir günde kaç sayfa okumuş olur?

→ Her gün eşit miktarda ekmeği yiyen bir aile 16 ekmeği 4 günde bitiriyor. Bu aile günde kaç ekmeği yemiştir?

MİLLİ BAYRAMLARIMIZ



Mustafa Kemal Samsun'a çıkarak Kurtuluş Savaşını başlattı.



Türkiye Büyük Millet Meclisi açıldı.



Cumhuriyet ilan edildi.



Kurtuluş mücadelesi zaferle kazanıldı.

Etkinlik: Milli bayramlarımızın isimlerini ilgili görsellerin altına yapıştırınız.

CUMHURİYET BAYRAMI
(29 EKİM 1923)

ATATÜRKÜ ANMA
GENÇLİK VE SPOR
BAYRAMI
(19 MAYIS 1919)

ZAFER BAYRAMI
(30 AĞUSTOS 1922)

ULUSAL EGEMENLİK
VE ÇOCUK BAYRAMI
(23 NİSAN 1920)

Maskeli hırsızlar, müzenin sessiz koridorlarında, parmaklarının ucuna basarak yürüyorlardı. Haftalardır bu soygunu planladıkları için gümüş para koleksiyonunun nerede sergilendiğini iyi biliyorlardı.

Tülin Aygül ÇINAR
(Kısaltılmıştır.)

İlk üç soruyu yukarıdaki metne göre cevaplayınız.

1. Metnin başlığı aşağıdakilerden hangisi olabilir?
A) Sessiz Koridor
B) Pazar Eğlencesi
C) Müzedeki Soygun
2. Maskeli hırsızlar koridorda nasıl yürüyorlardı?
A) Çok hızlı yürüyorlardı.
B) Parmaklarının ucuna basarak yürüyorlardı.
C) Dizlerinin üzerinde yürüyorlardı.
3. Maskeli hırsızlar neyin sergilendiği yeri biliyorlardı?
A) Ünlü tablo B) Kırmızı elmas
C) Para koleksiyonu

4. "Evdeki sorumluluklarımı yerine getirdim." cümlesinin olumsuz hali aşağıdakilerden hangisidir?
A) Evdeki sorumluluklarımı yerine getirmeyi düşünmüyorum.
B) Evdeki sorumluluklarımı yerine getirmediğim.
C) Evdeki sorumluluklarımı yerine getirdim mi?
5. Aşağıdakilerden hangisi cümledir?
A) Bardaktaki çayı
B) Bozulan kalemi
C) Kitaplarımı raflara dizdim.
6. Necip ve 3 arkadaşı, 16 çileği paylaşmak istiyor. Necip'e kaç çilek düşer?
A) 6 B) 5 C) 4
7. Hangi sayıyı 4'e bölersek sonuç 7 olur?
A) 20 B) 24 C) 28

Tarih:

Adım:

Soyadım:

8.

I. $8 \div 2 = 4$

II. $9 \div 3 = 3$

III. $21 \div 3 = 8$

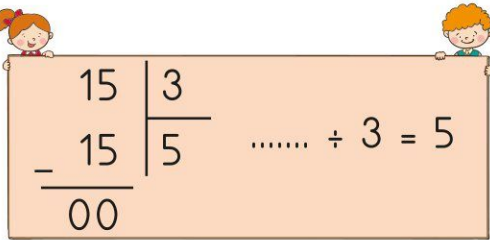
Yukarıdaki bölme işlemlerinden kaç tanesi doğrudur?

- A) 1 B) 2 C) 3

9. 18 muz 3 kardeşe eşit olarak paylaşılacak isteniyor. Her kardeşe kaç muz düşer?

- A) 5 B) 6 C) 4

10.



$$\begin{array}{r} 15 \quad | \quad 3 \\ - 15 \quad | \quad 5 \\ \hline 00 \end{array} \quad \dots \div 3 = 5$$

Yukarıdaki boşluğa hangi sayı gelmelidir?

- A) 3 B) 5 C) 15

11. Aşağıdakilerden hangisi millî bayramlarımızdandır?

- A) Zafer Bayramı
B) Kurban Bayramı
C) Ramazan Bayramı

12.

“.....’nın başladığı tarihi Atatürk’ü Anma ve Gençlik Spor Bayramı olarak kutlarız.”

Yukarıdaki ifadede boşluğa aşağıdakilerden hangisi gelmelidir?

- A) İzmir’in kurtuluşu
B) TBMM açılışı
C) Kurtuluş Savaşı

13. Aşağıdaki bilgilerden hangisi yanlıştır?

- A) İki tane dini bayramımız vardır.
B) Dini bayramlarımız yardımlaşmayı ve dayanışmayı güçlendirir.
C) Dini bayramlarımızı okullarda törenlerle kutlarız.



23 NİSAN


ULUSAL EGEMENLİK

VE

ÇOCUK BAYRAMI'NIN

102. YILI

KUTLU OLSUN



Etkinlik: Şiiri okuyunuz. Defterinize en güzel yazınızla yazınız.

BULUTLAR DA ÇOCUK OLSUN

Yine sevginle uyandım Atam,
Zıpladım, bağırdım kocaman
Bayram bugün bayram
23 Nisan'da herkes çocuk olsa bir an.

Ne olur gökyüzü,
Yağmur yağmasın bugün.
Söyle bütün bulutlara
Hepsi bizimle gülsün.

Saçım, giysilerim tamam
Şiirimi de ezberledim çoktan.
Ha bir şey kaldı unutmadan
Bir isteğim var bulutlardan.

Elbisem ıslanacak diye değil,
Pabuçlarım kirlenecek diye değil.
23 Nisan ya bugün.
Bulutlar da çocuk olsun, gülsün.

TÜLİN AYGÜL ÇINAR



BULUTLAR DA ÇOCUK OLSUN

Yine sevginle uyandım Atam,
Zıpladım, bağırdım kocaman
Bayram bugün bayram
23 Nisan'da herkes çocuk olsa bir an.

Ne olur gökyüzü,
Yağmur yağmasın bugün.
Söyle bütün bulutlara
Hepsi bizimle gülsün.

Saçım, giysilerim tamam
Şiirimi de ezberledim çoktan.
Ha bir şey kaldı unutmadan
Bir isteğim var bulutlardan.



Elbisem ıslanacak diye değil,
Pabuçlarım kirlenecek diye değil.
23 Nisan ya bugün.
Bulutlar da çocuk olsun, gülsün.

TÜLİN AYGÜL ÇINAR


Etkinlik: Şiiri okuyunuz. Defterinize en güzel yazınızla yazıp görseli boyayınız.




23 NİSAN
KUTLU OLSUN



Etkinlik: Aşağıdaki şekillerin boyalı kısımlarına göre bütün, yarım ve çeyrek yazılarını kesip yapıştırınız.



yapıştırınız.




yapıştırınız.



yapıştırınız.



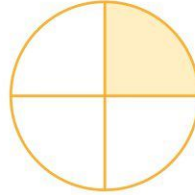
yapıştırınız.



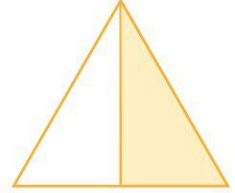
yapıştırınız.




yapıştırınız.



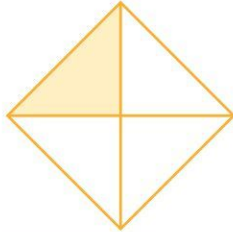
yapıştırınız.



yapıştırınız.




yapıştırınız.



yapıştırınız.



yapıştırınız.



yapıştırınız.



bütün

bütün

bütün

bütün

yarım

yarım

yarım

yarım

çeyrek

çeyrek

çeyrek

çeyrek

Etkinlik: Aşağıdakilerden kültürel mirasımıza ait olanların elmasını boyayınız.



Asker uğurlama



Pizza yapmak



Top oynama



Karagöz oyunu



Düğünler



Halk oyunları



Hacivat



Kitap dizmek



Karagöz



Tabak kırmak



Sünnet



Diş buğdayı



Aşağıdaki halk oyunlarımızın isimlerini görsellerin altına yapıştırınız.



Horon



Karşılama



Zeybek



Çayda Çıra




Halay



Hora

Etkinlik: Aşağıdaki bulmacada kültürel miraslarımızı bulup boyayınız.



MİLLÎ KÜLTÜRÜMÜZ

Kültür bir değerdir
Geçmişten gelendir.
Atalarımızın emaneti
Bizim birliğimizdir.
Koruyup kollayalım
Nesilden nesile aktaralım.
Sürüp gitsin asırlarca
Millî kültürümüz...

İlk dört soruyu şiire göre cevaplayınız.

- Atalarımızın emaneti nedir?
A) Oyun B) Nesil
C) Kültür
- Şaire göre koruyup kollamamız gereken nedir?
A) Tarlalarımız B) Asırlar
C) Millî Kültürümüz
- Şiire göre kültür nereden gelmiştir?
A) gelecekten B) geçmişten
C) uzaydan

4. Şiirde geçen "asır" kelimesinin eş anlamlısı aşağıdakilerden hangisidir?

A) gazete B) yüzyıl
C) sene

5. Aşağıdakilerden hangisinin sonuna diğerlerinden farklı bir noktalama işareti gelir?

A) Dışarı çıkarken şemsiye aldım🌻
B) O kadar soğuktu ki dondum🌻
C) Kaçınıcı sınıfta okuyorsun🌻

- 6.

"Yemeği yiyemedim çünkü çok sıcaktı."

Yukarıdaki cümlede sebep - sonuç anlamını hangi sözcük sağlamıştır?




A) sıcaktı B) yemeği
C) çünkü

7. Aşağıdaki cümlelerin hangisinde sebep - sonuç ilişkisi yoktur?

- A) Komedi filmlerini seviyorum.
B) Perdesini açmadığı için odası karanlıktı.
C) Sabah erken kalkacağı için saat dokuzda yattı.



Yukarıdaki narlardan kaç tane bütün nar elde ederiz?

- A)  B)  C) 






Üç bütün pizzadan kaç tane çeyrek pizza elde ederiz?

- A) 12 B) 6 C) 9



10. Aşağıdaki ifadelerden hangisi yanlıştır?

- A) 4 bütün 9 yarım eder.
B) 6 bütün 24 çeyrek eder.
C) 16 çeyrek 8 yarım eder.

11.  Yandaki elmalar-
dan aşağıdakiler-
den hangisini oluş-
turabiliriz?

- A)  B)  C) 

12. Aşağıdakilerden hangisi gele-
neksel yemeklerimizden değildir?

- A)  B) 
C) 