



MAVİ VE BEYAZ

Bir gün, Mavi ve Beyaz evlerinin önünden geçen bir sincap gördüler. Sincap, ağaçlara tırmanırken çok mutlu görünüyordu. Mavi ve Beyaz da sincabı takip etmeye karar verdiler. Sincap ağaçlardan ağaçlara atlayarak ilerlerken, Mavi ve Beyaz onu dikkatle takip ediyordu. Sincap, sonunda bir ağacın dalında durdu ve Mavi ve Beyaz'a bakarak gülümsedi. Kediler de sincaba gülümseyerek cevap verdiler.

(1 ve 2. soruyu metne göre cevaplayalım.)

1) Mavi ve Beyaz kimi takip etmiş?

- a) Kediyi b) Sincabı c) Köpeği

2) Sincap ağaçlara tırmanırken nasıl görünüyordu?

- a) Mutlu b) Endişeli c) Heyecanlı

3) Hangi cümlede hem tekil hem de çoğul ad vardır?

- a) Evinizde kiler var mı?
b) Ağaçlar çiçek açmış.
c) Bahçeye domates tohumu ekim.

4) "Sema () Halil () Nurgül ve Ömer parka gelecek mi ()"

Yukarıdaki cümlede parantez ile belirtilen yerlere hangi noktalama işareti getirilemez?

- a) Virgül(.) b) Soru işareti(?) c) Nokta(.)

5) Hangi sorunun cevabı özel isimdir?

- a) Öğretmeninizin adı ne?
b) Elbisen hangi renk?
c) Kalemim nerede?

6) Aşağıdaki ifadelerden hangisi doğru değildir?

- a) Hayvanları korumalıyız.
b) Bitkilerin barınma ihtiyacı vardır.
c) Bitki yetiştirmek ve hayvan beslemek empati duygumuzu geliştirir.




7) Görselde verilen sembolün anlamı nedir?

- a) Geri dönüşüm b) Oyun alanı c) Girilmez

8) Aşağıdakilerden hangisi doğru bir bilgidir?

- a) Geniş düzlüklere dağ denir.
b) Sıcaklık canlıların yaşamını ve ulaşım faaliyetlerini etkiler.
c) Dağlık bölgelerdeki insanlar daha çok balıkçılık yaparak geçimlerini sağlarlar.

9)



- a) six oranges
b) seven apples
c) six apples

-Do you like strawberries?

10) -Yes,



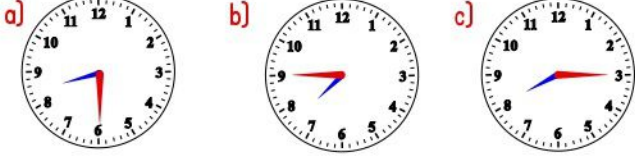
Noktalı yere hangi ifade gelmelidir?

- a) I do b) I don't c) are



Her sabah 8'e
çeyrek kala
uyanırım.

11) Oya'nın ifade ettiği zamanı gösteren saat hangisidir?



12) Selenay yaz mevsiminde her ay 3 kere yüzme kursuna gitti. Selenay, toplam kaç kere yüzme kursuna gitmiştir?

- a) 7 b) 8 c) 9

13) Yandaki saatte yelkovan yarım tur dönüş yaparsa saat kaç olur?

- a) 03.45 b) 04.00 c) 03.00



14) Ninem 2 Mayıs Salı günü doktora gitti. 10 gün sonra kontrolü vardır. Buna göre ninemin kontrolü hangi güne denk gelir?

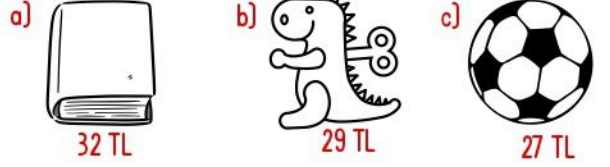
- a) Çarşamba b) Salı c) Cuma

15) Her gün bir yarım elma yiyorum. Buna göre on günde toplam kaç bütün elma yemiş olurum?

- a) 5 b) 4 c) 3



16) Yukarıdaki para ile hangisini alabilirim?



17) Bahar'ın 4 tane 25 kuruşu, Cem'in 4 tane 50 kuruşu vardır. İkisinin toplam kaç lirası vardır?

- a) 3 TL b) 4 TL c) 5 TL

$$2 + 2 + 2 + 2 = \text{flower} \times 2$$

18) Yukarıdaki işlemde flower yerine hangi sayı yazılmalıdır?

- a) 8 b) 6 c) 4

19) Dayım Aralık ayında askere gitti. Askerliği 6 ay sürecektir. Buna göre hangi ay dönecektir?

- a) Eylül b) Mayıs c) Ekim

20) Bir top dondurma 6 TL'dir. 3 top dondurma alıp dondurmacıya 20 TL uzattım. Kaç lira para üstü almam gerekir?

- a) 1 TL b) 3 TL c) 2 TL

