

### Mini Değerlendirme

1-----



Abaküste verilen sayının okunuşu aşağıdaki seçeneklerin hangisinde doğru verilmiştir?

- A) Dört yüz on  
B) Üç yüz on dört  
C) Dört yüz on üç

2-----

Aşağıdaki öğrencilerden hangisi "802" sayısını doğru okumuştur?


- A) Sekiz yüz  
B) Sekiz yüz iki  
C) Sekiz yüz on iki

3-----

Aşağıda verilen ritmik saymalardan hangisinde yanlışlık yapılmıştır?

- A) 8 - 16 - 24 - 32 - 36 - 48  
B) 18 - 24 - 30 - 36 - 42 - 48  
C) 9 - 18 - 27 - 36 - 45 - 54

4-----



Taban blokları ile gösterilen doğal sayı ile ilgili aşağıda verilen bilgilerden hangisi doğrudur?

- A) 2 yüzlük + 4 onluk + 5 birlikten oluşmuştur.  
B) 5 yüzlük + 4 onluk + 2 birlikten oluşmuştur.  
C) 2 yüzlük + 5 onluk + 4 birlikten oluşmuştur.

5-----

"302" sayısının en yakın yüzlüğü aşağıdakilerden hangisidir?

- A) Üç yüz iki B) Üç yüz on  
C) Üç yüz

6-----

$$7 * 6 > 739$$

Yukarıda verilen karşılaştırmada "\*" yerine hangi rakam yazılamaz?

- A) 5 B) 4 C) 3

7-----



Yukarıda verilen elbiselerin etiket fiyatları, en pahalıdan en ucuza doğru sıralandığında sıralama nasıl olur?

- A) 3 - 1 - 2 B) 2 - 1 - 3  
C) 1 - 2 - 3

8-----



Yukarıda verilen örüntüyü hangi öğrencinin söylediği sayı bozmaktadır?

- A) Ece B) Alper C) Bora

9-----

Aşağıdaki seçeneklerden hangisinde verilen sayıların tamamı çifttir?

- A) 792 - 443 - 806  
B) 341 - 173 - 881  
C) 442 - 306 - 900

10-----

$$4 \text{ yüzlük} + 8 \text{ onluk} + 7 \text{ birlik}$$
$$2 \text{ yüzlük} + 1 \text{ onluk} + 5 \text{ birlik}$$
$$2 \text{ onluk} + 2 \text{ birlik}$$

Yukarıda çözümlenmiş olarak verilen sayıların toplamı kaçtır?

- A) 624 B) 724 C) 814

11-----



Yukarıda verilen saat modelinde akrep, yelkovan ve saniye hangi sayıları göstermektedir?

	Akrep	Yelkovan	Saniye
A)	10	12	2
B)	2	10	12
C)	10	2	12

12-----

$$40 - 20 = 20$$
$$8 - 3 = 5$$
$$20 + 5 = 25$$

Yukarıda zihinden yapıldığı verilen çıkarma işlemi hangisidir?

- A) 43 - 28 B) 48 - 23  
C) 60 - 35

13-----

$$3 \text{ yüzlük} + 2 \text{ birlik}$$

$$2 \text{ yüzlük} + 7 \text{ onluk} + 5 \text{ birlik}$$

Yukarıda verilen sayıların tahmini toplamı kaçtır?

- A) 570 B) 580 C) 590

14-----

$$10 \times 50 = K$$

$$2 \times 100 = L$$

Yukarıda verilen işlemlere göre "K + L" işleminin sonucu kaçtır?

- A) 700 B) 250 C) 70

15-----

Aşağıdaki toplama işlemlerinde verilmeyen rakam hangi seçenekte diğerlerinden farklıdır?

- A) 5 ★ 2 B) ■ 4 6 C) 4 1 ●
- $$\begin{array}{r} + 308 \\ 880 \end{array}$$
- $$\begin{array}{r} + 312 \\ 858 \end{array}$$
- $$\begin{array}{r} + 421 \\ 836 \end{array}$$

16-----

Mehmet birinci gün 34 soru, ikinci gün 43 soru ve üçüncü gün ise ilk günden 8 soru fazla çözmüştür.

Buna göre Mehmet toplam kaç soru çözmüştür?

- A) 111 B) 119 C) 128

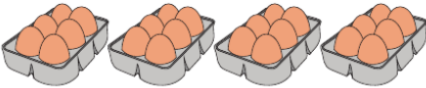
17-----

Bir okulda 424 erkek öğrenci, erkek öğrencilerden 37 eksik kız öğrenci vardır.

Buna göre okulda toplam kaç öğrenci vardır?

- A) 387 B) 811 C) 901

18-----



Görseldeki yumurtaların toplam sayısı aşağıda verilen işlemlerden hangisi ile bulunamaz?

- A)  $6 + 6 + 6 + 6$   
B)  $4 \times 6$   
C)  $4 + 4 + 4 + 4$

19-----

$3 + 3 + 3 + 3 + 3$  ● ●  $4 \times 6$

$6 + 6 + 6 + 6$  ● ●  $5 \times 3$

$7 + 7 + 7 + 7 + 7 + 7$  ● ●  $6 \times 7$

Yukarıdaki toplama işlemleri ile çarpma işlemleri eşleştirildiğinde hangi görünüm oluşur?

- A) B) C)

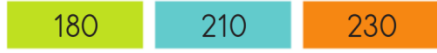
20-----

Tanesi 25 lira olan uçan balonlardan 12 tane alan Ahmet, satıcıya kaç lira ödemelidir?



- A) 292 TL B) 300 TL  
C) 400 TL

21-----



" $35 \times 6$ " işleminin sonucu hangi renk kutudadır?

- A) Yeşil B) Mavi C) Turuncu

22-----

$27 \times 8 < A$  işleminde "A" yerine yazılabilecek en küçük sayı kaçtır?

- A) 217 B) 271 C) 721

23-----

### Çarpma işlemi

Tanesi 18 TL olan hikâye kitaplarından bir deste alındığında satıcıya 200 TL verilse kaç TL para üzeri alınır?

- A) 20 TL B) 30 TL C) 40 TL

24-----

### Bölme işlemi



Bir çiftlikteki kuzuların ayak sayısı 56 ise bu çiftlikte kaç kuzu vardır?

- A) 14 B) 15 C) 16

25-----

### Bölme işlemi



5 teneke bal 90 kilogram gelmektedir.

Buna göre 1 teneke bal kaç kilogramdır?

- A) 16 kg B) 17 kg C) 18 kg

*Matematik test sınavımızda işlem gereken soruları mutlaka işlem yaparak işaretleyiniz.*

*Kağıdımızın arka sayfasındaki ve yanlarındaki boşlukları kullanınız.*

**Enes SERT**  
**3/A Sınıfı Çalışmaları**