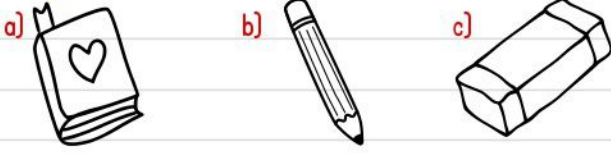


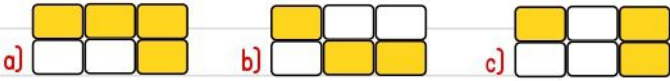


1) "Kelime" sözcüğündeki ünsüz harflerin tamamı hangi nesnenin adında vardır?



sovan	kitap	ekşi
Türk	yamur	yalnış

2) Tabloda yazımı yanlış olan kelimeler boyanırsa tablonun görünümü nasıl olur?



kuru --> yaş - ıslak
genç --> yaşlı - ihtiyar
küçük --> ? -

3) Yukarıdaki kelimeler arasındaki anlam ilişkisine göre ? yerine hangisi yazılmalıdır?

a) iri b) ufak c) büyük

1.Aslan 2.yemeğe 3.hayvanları
4.ormandaki 5.davet 6.etmiş

4) Hangi kelimelerin yerleri değiştirilirse anlamlı ve kurallı bir cümle oluşturabiliriz?

a) 2 ve 4 b) 2 ve 5
c) 2 ve 6

5) Bu deyimın anlamı nedir?

- a) Çok emek vermek.
b) Çok sevinmek.
c) Ağzı açık kalmak.



6) Millî marşımızın şairi kimdir?

- a) Mustafa Kemâl ATATÜRK
b) Mehmet Âkif ERSOY
c) Ali Rıza Efendi

İSTİKLÂL MARŞI

Korkma, sönmez bu şafaklarda yüzen al;
..... yurdumun üstünde tüten en son ocak.

- benim milletimin , parlayacak;
 benimdir, o benim milletimindir ancak.

7) İstiklâl Marşı'mızın ilk kıtasında bazı kelimeler eksik bırakılmıştır. Sırasıyla hangi kelimeler yazılmalıdır?

- a) sancak b) bayrak c) sancak
sönmeden sönmeden benim
yıldızdır yıldızdır yıldızdır


8) Hangisi Mustafa Kemâl Atatürk'ün kişisel özelliklerinden biri değildir?

- a) çalışkan
b) dürüst
c) kararsız




9) How many birds are there?

- a) six birds
b) two birds
c) four birds




10)



- a) cat
b) dog
c) bird





- 11) Görseldeki cevizleri 4 arkadaş eşit şekilde paylaşıyor. Her bir kişiye kaç ceviz düşer?
a) 3 b) 4 c) 5



- 12) Bir tepsi poğaçaya için 2 yumurta gerekiyor. Yukarıdaki yumurtalar ile kaç tepsi poğaçaya yapabiliriz?
a) 8 b) 6 c) 4

- 13) Batuhan yandaki bölme işlemini ardışık çıkarma işlemi olarak yapıyor. Kalan sıfır [0] olana kadar kaç işlem yapar?
a) 6 b) 8 c) 10

$$\begin{array}{r} 24 \quad | \quad 3 \\ \underline{\quad\quad} \end{array}$$

- 14) Bir bölme işleminde bölünen 36, bölen 4 ise bölüm kaçtır?
a) 9 b) 8 c) 7

$$3 \times 2 =$$

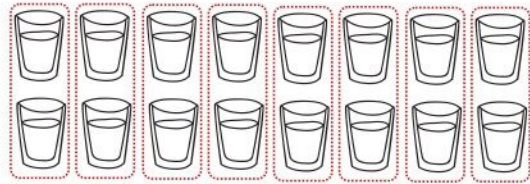
- 15) Yukarıdaki işlemin sonucu ile ilgili hangi bilgi doğrudur?
a) 1 desteden 4 eksiktir.
b) 1 onluk 6 birlikten oluşur.
c) 6 onluktan oluşur.

$$\begin{array}{r} ? \\ \underline{\quad} \end{array}$$

- 16) Yukarıdaki bölme işleminde ? ile gösterilen yere hangi terim yazılmalıdır?
a) *bölen* b) *bölüm* c) *bölünen*

- 17) Üç deste kalem 5 kişi eşit şekilde paylaşıyor. Her birine kaç kalem düşer?
a) 10 b) 6 c) 4

- 18) Aşağıdaki eşitliklerden hangisi yanlıştır?
a) $4 \times 4 = 16$ b) $8 \times 5 = 40$
c) $7 \times 4 = 24$



- 19) Yukarıda modellenen bölme işlemi hangisidir?
a) $14 \div 2$ b) $16 \div 2$ c) $18 \div 3$

- 20) Yandaki ardışık çıkarma işlemi ile yapılan bölme işlemi hangisidir?

$$\begin{array}{r} 15 \quad | \quad 3 \\ \underline{\quad\quad} \end{array}$$

$$\begin{array}{r} 15 \quad | \quad 5 \\ \underline{\quad\quad} \end{array}$$

$$\begin{array}{r} 12 \quad | \quad 3 \\ \underline{\quad\quad} \end{array}$$

$$\begin{array}{l} 15-3=12 \\ 12-3=9 \\ 9-3=6 \\ 6-3=3 \\ 3-3=0 \end{array}$$

