


- 1-  Tohum çimlenerek filiz hâline gelir.  
 Filiz büyüyerek sebze hâline gelir.  
 Tohum toprağa ekilir.


Olayların gerçekleşme sırasına göre sembollerini sıralarsak hangisi doğru olur?

- A)  -  -  B)  -  -  C)  -  -

- 2-  Bitkilerin yararları nelerdir? .....

Yukarıdaki ifadede noktalı yere hangisi yazılmaz?

- A) Bitkiler hava kirliliğini azaltır.  
B) Bitkiler çevreyi çirkinleştirir.  
C) Bitkiler canlılara besin sağlar.

- 3-  Hayvanlar ..... olmadan yaşayamaz.

Tuna, konuşmasını hangi ifade ile tamamlarsa yanlış bir ifade vermiş olur?

- A) su B) hava C) kıyafet

- 4-  Bitki ve hayvanlara zarar verenleri uyarırız.  
 Çevre temizliğine önem vermeyiz.  
 Bitki ve hayvanlara su veririz.

Hangi sembolle belirtilen ifade "Bitki ve hayvanları korumak için neler yapabiliriz?" sorusunun cevabı olamaz?

- A)  B)  C)

5- Sonbahar mevsiminde aşağıdaki değişikliklerden hangisi görülür?

- A) Kar yağışları görülür.  
B) Göçmen kuşlar göç etmeye başlar.  
C) Havalar ısınmaya başlar.

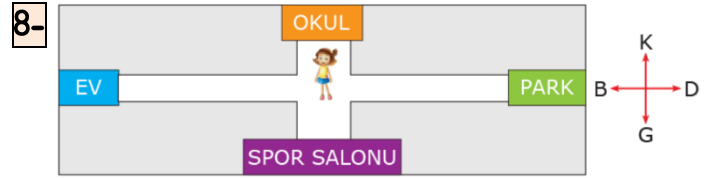
- 6- Yönler \_\_\_\_\_ göre belirlenir.

Yukarıdaki ifade hangisi ile tamamlanmalıdır?  
A) çevreye B) Ay'a C) Güneş'e

- 7- Güneş'in doğduğu tarafa sağ kolumuzu uzattığımızda,  
1. Sağ kolumuz ..... yönünü gösterir.  
2. Sol kolumuz ..... yönünü gösterir.  
3. Yüzümüz ..... yönünü gösterir.  
4. Sırtımız ..... yönünü gösterir.

Yukarıdaki ifadelerde boş bırakılan yerlere sırasıyla hangi sözcükler yazılmalıdır?

- A) 1. doğu  
2. batı  
3. güney  
4. kuzey  
B) 1. doğu  
2. batı  
3. kuzey  
4. güney  
C) 1. batı  
2. doğu  
3. güney  
4. kuzey



Görsele göre Türkan, spor salonuna gitmek için hangi yöne yürümelidir?

- A) güneye B) kuzeye C) batıya

9- Aşağıdaki ifadelerden hangisi "kupa" sözcüğünün tanımıdır?

- A) Kişinin parmak uçlarına takarak oynattığı oyuncak  
B) Bebekleri sallamak için kullanılan eşya  
C) Sporda ödül olarak verilen süslü maden vazo

10- Hangi sembolle gösterilen sözcük grubu eş anlamlıdır?

- A)  B)  C)

- yıl - sene  
 ıslak - kuru  
 kızgın - üzgün

- 11-  vardı  içinde  balık  
 onlarca  akvaryumun

Yukarıdaki kelimelerle anlamlı ve kurallı bir cümle oluşturduğumuzda baştan ikinci sözcük hangisi olur?




- A) onlarca B) balık C) içinde

12-  Üstü leke olunca eve gitti.  
 Sepetteki kirli çamaşırları çamaşır makinesine koydu.  
 Çamaşırlar mis gibi kokuyor.

Yukarıdaki cümlelerin hangisinde "temiz" sözcüğünün zıt anlamlısı kullanılmıştır?

- A)  B)  C)

13- Hangi cümlede  yerine "fakat" yazılamaz?

- A) Çok koştum  terlemedim.  
B) Acıktığım  tost hazırladım.  
C) Çocuk yere düştü  ağlamadı.

14- **Marketten taze süt almaya gidiyorum.**

Yukarıdaki cümledeki altı çizili sözcük hangi soruya cevap verir?

- A) Nasıl? B) Niçin? C) Nereden?

15- **Murat'a ..... yalan söyledi?**

Yukarıdaki cümle hangi sözcükle tamamlanmalıdır?

- A) kim B) ben C) yarın

16- Aşağıdaki cümlelerin hangisinde sebep-sonuç ilişkisi vardır?

- A) Eve gelince hemen ödevini yaptı.  
B) Baş ağrıdığı için ilaç içti.  
C) Kahvaltıda mutlaka yumurta yerim.

17- Yandaki cümleler oluş sırasına göre sıralanırsa hangi sözcük oluşur?

- K** Kedicik, soğuktan titriyordu.  
**O** Furkan, okuldan dönerken bir kedi gördü.  
**L** Durumu, annesine anlattı.  
**U** Kediyi kucağına alıp eve götürdü.

- A) OKLU B) OLUK C) OKUL

18- 

3	7	11	16	19
1	2	3	4	5

Yukarıdaki kartlarda yazılan sayılar belli bir kurala göre dizilmiştir. Kaçınıcı karttaki sayı bu kuralı bozmuştur?

- A) 2. B) 4. C) 5.

19-  $\square \times 2 = 4 \times 5$

Yukarıdaki eşitlikte  $\square$  yerine hangi sayı gelmelidir?

- A) 10 B) 8 C) 5

20- Okul koridorunun uzunluğunu hangisi ile ölçmemiz daha uygundur?


- A) Parmak B) Karış C) Adım

21- Metreyi hangi meslek sahibi kullanmaz?

- A) Terzi  
B) Hemşire  
C) Marangoz

22- Tavşanların gideceği yolun toplam uzunluğu kaç metredir?

12 m yol geldik. 9 m daha gidersek yuvamıza ulaşacağız.



- A) 21 m  
B) 12 m  
C) 9 m

23- Ablamın bir kulacı 1 metredir. Ablam bahçenin duvarını 6 kulaç olarak ölçüyor. Bahçenin duvarı kaç metredir?

- A) 7 m B) 6 m C) 5 m

24- Sınıf kapımızın boyu tahmini olarak ne kadar uzunluktadır?

- A) 50 cm B) 1 m C) 2 m

25- 

...RANGE	MELO...	APPL...
----------	---------	---------



Görsellerin isimlerinde boş bırakılan yerlere sırasıyla hangi harfler yazılmalıdır?

- A) O N E  
B) T W O  
C) O Y A

\*\*\*\*\* BAŞARILAR \*\*\*\*\*

Her soru 4 (dört) puandır.

Cevaplarınızı kontrol ediniz.