

1. I. Her namazda, başlangıç tekbirinden sonra okunur.
- II. Bu duayla Allah'ı (cc) saygı ve övgüyle anarız.
- III. Cenaze namazlarında da okunur.
- IV. "İnanırım." manasına gelir ve imanın şartlarını ifade eder.

"Sübhanek" duası ile ilgili yukarıda verilenlerden hangisi doğrudur?

- A) I ve IV B) II ve III
C) I, II ve III D) II, III ve IV

2. Birisi bize "Nasılsın?" diye sorduğunda verdiğimiz hangi yanıt günlük hayatımızda kullandığımız dinî ifadelerden **değildir**?

- A) Hamdolsun.
B) Her şey yolunda.
C) Elhamdulillah.
D) Şükürler olsun.

3.



Yaradılışı insanlardan farklı olan ve gözle görülmeyen varlıklara iman etmektir.

Abdullah'ın söz ettiği İslam dininde yer alan inanç esasları aşağıdakilerden hangisidir?

- A) Kitaplara İman
B) Ahirete İman
C) Kader ve Kazaya İman
D) Meleklerle İman

4.

- Günde beş vakit ve kibleye yönelerek yerine getirilir.
- Farz ibadettir.
- İslam'ın şartlarından.

Yukarıda verilenlere hangi başlığın yazılması uygun olur?

- A) NAMAZ KILMAK
B) ZEKÂT VERMEK
C) ORUÇ TUTMAK
D) HACCA GİTMEK

5. ✿ Kur'an-ı Kerim'de yer alan her cümleye ne denir?
- ✿ Kur'an-ı Kerim'in her biri diğerinden besmele ile ayrılmış, farklı sayılarda ayet içeren bölümlerine ne ad verilir?
- ✿ Kur'an-ı Kerim'in yirmi sayfadan oluşan her bölümü ne olarak adlandırılır?

Aşağıdakilerden hangisi verilen sorulardan birinin yanıtı **değildir**?

- A) Cüz
B) Ayet
C) Dua
D) Sure

1. me the book.
 the door.
 the board.

Kutulardaki cümlelerde noktalı yerlere hangi sözcükler yazılmalıdır?

- A) Give B) Stay
 Open Come
 Clean Open
 C) Turn off D) Give
 Close Raise
 Raise Open

2.



Himari is from She is

Görsele göre noktalı yerlere sırasıyla hangi sözcükler gelmelidir?

- A) Iraq - Iraqi
 B) Britain - British
 C) Japan - Japanese
 D) Italy - Italian

3.



Aşağıdakilerden hangisi görselleri verilen etkinliklerden biri **değildir**?

- A) Climb a tree B) Do puzzles
 C) Swim D) Drive

4. — Whose teddy bears are these?
 — These are



Görsele göre konuşmadaki noktalı yere hangisi yazılmalıdır?

- A) my brother's teddy bears
 B) my sister's teddy bears
 C) my mother's teddy bears
 D) my father's teddy bears

5. A: Do you like ?
 B: Yes, I do.

Görsele göre diyalogdaki noktalı yere hangi ifade gelmelidir?

- A) reading comics
 B) riding a bike
 C) flying a kite
 D) swimming



7. Mustafa Kemal'in 19 Mayıs 1919'da Samsun'a çıkmasının ardından gelenler ve kongreler düzenlediği yerler hangi seçenekte kronolojik sırayla verilmiştir?

A)

Havza
Amasya
Erzurum
Sivas

B)

Havza
Amasya
Sivas
Erzurum

C)

Sivas
Erzurum
Amasya
Havza

D)

Amasya
Havza
Erzurum
Sivas

8. Aslı, anneannesine çocukken oynadıkları oyunları sordu. Anneannesinin anlattığı oyunlardan biri çok ilgisini çekti. Okula gidince bu oyunu arkadaşlarına anlattı. Oyun, onların da hoşuna gidince teneffüste birlikte oynamaya karar verdiler.

Bu metinde söz edilen oyun aşağıdakilerden hangisi **olamaz**?

- A) Mendil kapmaca
B) Saklambaç
C) Elimsende
D) Sessiz sinema

9. Müge: Teyzemin kına gecesine gittik.
Arda: Kuzenimin sünnet düğününde çok eğlendik.

Defne: Kuzenimin tiyatro gösterisini ayakta alkışladık.

Can: Dayımın asker uğurlamasında hem eğlendik hem de duygulandık.

Yukarıdaki çocuklardan hangilerinin konuşmasında milli kültür öğelerimizden söz edilmiştir?

- A) Defne ve Arda
B) Can ve Müge
C) Müge, Arda ve Can
D) Arda, Müge, Can ve Defne

10. Sema, aile tarihiyle ilgili görüşme yapacağı aile büyüğünü belirledi. Aile büyüğüne sormak istediği soruları hazırladı.

Aşağıdakilerden hangisi Sema'nın hazırladığı sorulardan biri **olamaz**?

- A) Ne zaman ve nerede doğdun?
B) Emekli olduğunda kaç yaşındaydın?
C) Hangi meslek ya da mesleklerde çalıştın?
D) Hangi tarihte evlendin?


SOSYAL BİLGİLER

AAA

1. (I) Kırklareli gezimize İğneada Longoz Ormanları Milli Parkı ile başladık. (II) Ardından Kıyıköy Mağarasını gezdik. (III) Babaeski Köprüsünde çok güzel fotoğraflar çektik. (IV) Son olarak Kazandere'de piknik yapıp dinlendik.

Yukarıdaki metnin kaç numaralı cümlesinde Kırklareli'deki beşeri bir unsurdan söz edilmiştir?

- A) I B) II C) III D) IV



Banu'nun evi caminin kuzeyinde, okul ile bankanın arasındadır. Banu okula gitmek için evden çıktığında evinin sağındaki evin önünden geçmektedir.

Buna göre Banu'nun evi hangi sembole gösterilmiştir?

- A) ▲ B) ● C) ◆ D) ■

3. Fiziki haritalarda yer şekilleri renklerle belirtilir.



Fiziki haritalarda bulunan yukarıdaki renklerle gösterdikleri yerler eşleştirildiğinde hangisi dışarıda kalır?

- A) Yükseltinin az olduğu yerler
B) Deniz seviyesinde ve çukur olan yerler
C) Yükseltinin çok olduğu yerler
D) Deniz, göl ve akarsular

4.

Milli Mücadele'de Doğu Cephesi Komutanlığı yaptı.

TBMM Başkanlığına seçildi.



Yukarıdaki çocukların, hakkında bazı bilgiler verdikleri Milli Mücadele kahramanımız kimdir?

- A) Kâzım Karabekir
B) Hasan Tahsin
C) Şahin Bey
D) Ali Saip Bey

7. Alkol, beynin işlevlerini etkileyerek bilinç kaybına neden olur mu?

Sigara kullanmak kalp krizi riskini artırır mı?

Alkolün karaciğere verdiği zarar siroz hastalığına yol açar mı?


Alkol ve sigara bağımlılık yapan maddeler midir?

Yukarıdaki sorulardan kaç tanesine "Evet." yanıtı verilir?

- A) 1 B) 2 C) 3 D) 4

8. Miknatis, içinde miknatis bulunan bazı araçlara zarar verebilir.

Aşağıdakilerden hangisi miknatisin zarar verebileceği araçlardandır?



9.

Ürün	Arnalajı Sağlam	TSE Damgası Var	Katkı Maddesi Var
Makarna	✓	✓	✓
Yoğurt	✓	✓	
Salça		✓	✓
Pirinç	✓		

Marketten alınan ve özellikleri işaretilenen yukarıdaki ürünlerden hangisinin daha sağlıklı olduğunu söyleyebiliriz?

- A) Makarna B) Yoğurt
C) Salça D) Pirinç

10.

Vücut ısısının ayarlanmasında önemli rol oynar.	Diş, kemik ve cilt yapısının sağlıklı olmasını sağlar.
Vücudun sıvı dengesini korur.	Kalbin çalışmasını düzenler.

Tablodan minerallerin vücudumuzdaki görevlerini ifade etmeyen kısım çıkarıldığında tablo nasıl görünür?

A)

B)

C)

D)

5.

1

Metro
istasyona
yaklaşıyor.

2

Top kale
direğine
çarpmıyor.

3

Uçak
pistten
kalkıyor.

4

Motosiklet
virajı
dönüyor.

5

Vapur
iskeleden
ayrılıyor.

6

Araba
kırmızı ışığa
yaklaşıyor.

Funda, numaralandırılmış kartlardaki durumların kuvvetin hangi etkisine örnek olduğunu bulup uygun başlık altında sınıflandırmıştır. Öğretmeni, Funda'nın çalışmasını kontrol edip "Aferin!" demiştir.

Buna göre Funda'nın çalışması aşağıdakilerden hangisidir?

- A) Hızlandırma Etkisi: 2, 3 Yavaşlatma Etkisi: 1, 6 Yön Değiştirme Etkisi: 4, 5
 B) Hızlandırma Etkisi: 3, 6 Yavaşlatma Etkisi: 2, 5 Yön Değiştirme Etkisi: 1, 4
 C) Hızlandırma Etkisi: 3, 5 Yavaşlatma Etkisi: 1, 6 Yön Değiştirme Etkisi: 2, 4
 D) Hızlandırma Etkisi: 4, 5 Yavaşlatma Etkisi: 2, 6 Yön Değiştirme Etkisi: 1, 3





6.



Yaptığı sunumda yukarıdaki görselleri kullanan Büket, sunumunda aşağıdakilerden hangisini söylemiş **olamaz**?





- A) Miknatıs kırıldığında ortaya çıkan parçalarda da miknatıslık özelliği devam eder.
 B) Miknatısın aynı kutupları birbirini iter.
 C) Miknatıs farklı mesafede duran aynı iki nesneden uzak olanı çeker.
 D) Miknatısın farklı kutupları birbirini çeker.

1. Aşağıdaki çocuklardan hangisi kuvvetin şekil değiştirici etkisine örnek olabilecek bir olaydan söz **etmemiştir**?

- A)  Annem kek yaparken kabın içine 4 tane yumurta kırdı.
- B)  Oyun hamurundan yaptığımız hayvanları yan yana dizdik.
- C)  Bisikletimle giderken karşıma kedi çıkınca fren yaptım.
- D)  Teneke içecek kutusunu elimle sıkarak küçültüp çöpe attım.

2. Esnek cisimlere uygulanan kuvvet ortadan kalktığında bu cisimler eski şekillerine geri döner.

Buna göre aşağıdakilerden hangisi esnek bir cisimdir?


- A)  B) 
- C)  D) 

3. Yanda görseli verilen mıknatısla ilgili aşağıdaki ifadelerden hangisi doğru **değildir**?



- A) Çubuk mıknatıstır.
- B) "N" ile gösterilen kutbu kuzey kutbudur.
- C) Demir, nikel, kobalattan yapılan nesnelere temas gerektiren kuvvet uygular.
- D) "S" ile gösterilen kutbu güney kutbudur.

4.



Görseldeki oyuncak tren kırmızı ok yönünde hareket ettirilmiştir.

Bu trene hareket hâlindeyken mavi ok yönünde kuvvet uygulanırsa,

- I. Trenin hızı azalır.
- II. Tren durur.
- III. Trenin hızı artar.
- IV. Tren şekil değiştirir.

yukarıdakilerden hangileri gerçekleşebilir?

- A) I ve II B) II ve III
- C) III ve IV D) I, II ve IV

10.

100 ile çarp, 4'e böl!

10 ile çarp, 2'ye böl!

100 ile çarp, 2'ye böl!

Kutulardaki kısa yoldan çarpma yöntemleri ile bu yöntemlerin uygulanacağı işlemler eşleştirildiğinde hangisi dışarıda kalır?

- A) 84×25 B) 92×5
C) 47×20 D) 36×50

11. Aşağıdaki çarpma işlemlerinden hangisinin tahmini sonucu diğerlerinden farklıdır?

- A)
$$\begin{array}{r} 38 \\ \times 24 \\ \hline \end{array}$$
 B)
$$\begin{array}{r} 42 \\ \times 17 \\ \hline \end{array}$$

C)
$$\begin{array}{r} 35 \\ \times 18 \\ \hline \end{array}$$
 D)
$$\begin{array}{r} 44 \\ \times 26 \\ \hline \end{array}$$

12.



500 litre zeytinyağının 220 litresi 5 litrelik tenekelere, kalan zeytinyağının tamamı ise 8 litrelik tenekelere dolduruldu.

Buna göre toplam kaç teneke zeytinyağı olmuştur?

- A) 81 B) 79 C) 77 D) 75

13.

Melda'nın Kutuları

6	3
8	2

Mert'in Kutuları

9	4
7	0

Melda, kutularındaki rakamları birer kez kullanarak dört basamaklı en büyük sayıyı, Mert ise dört basamaklı en küçük sayıyı yazdı.

Buna göre Melda'nın oluşturduğu sayı, Mert'in sayısından kaç fazladır?

- A) 4553 B) 4535
C) 4355 D) 4353

14.



Servis şoförü evim ile okulum arasındaki uzaklığın 4346 m olduğunu söyledi.

Erim'in söylediği uzaklıktaki 4 rakamlarının basamak değerleri toplamı kaçtır?

- A) 8 B) 44
C) 440 D) 4040

15. Bir otoparkın günlük park etme ücreti 80 TL'dir. Bu otoparka bir günde 384 araç park etmiştir.

Buna göre otopark bir günde kaç lira elde etmiştir?

- A) 32 680 B) 30 720
C) 30 710 D) 29 730

7.

Elif'in
İşlemi

$$\begin{array}{r} \dots\dots | \dots\dots \\ \dots\dots \\ \hline \dots\dots \end{array}$$

$$\begin{aligned} 16 \times 24 &= 384 \\ 384 + 8 &= 392 \end{aligned}$$

Murat'ın
İşlemi

$$\begin{array}{r} \dots\dots | \dots\dots \\ \dots\dots \\ \hline \dots\dots \end{array}$$

$$\begin{aligned} 38 \times 19 &= 722 \\ 722 + 11 &= 733 \end{aligned}$$

Elif ve Murat bölme işlemlerinin doğruluğunu yukarıdaki gibi kontrol etmişlerdir. Buna göre Elif ve Murat'ın bölme işlemlerinin terimleri hangi seçenekte doğru eşleştirilmiştir?

- | | | | |
|---------------------------------|-----------|-----------|-----------|
| A) Elif'in İşlemi: Bölünen: 392 | Bölün: 16 | Bölüm: 24 | Kalan: 8 |
| Murat'ın İşlemi: Bölünen: 733 | Bölün: 38 | Bölüm: 19 | Kalan: 11 |
| B) Elif'in İşlemi: Bölünen: 384 | Bölün: 8 | Bölüm: 24 | Kalan: 16 |
| Murat'ın İşlemi: Bölünen: 722 | Bölün: 11 | Bölüm: 19 | Kalan: 38 |
| C) Elif'in İşlemi: Bölünen: 392 | Bölün: 24 | Bölüm: 8 | Kalan: 16 |
| Murat'ın İşlemi: Bölünen: 733 | Bölün: 19 | Bölüm: 11 | Kalan: 38 |
| D) Elif'in İşlemi: Bölünen: 384 | Bölün: 16 | Bölüm: 24 | Kalan: 8 |
| Murat'ın İşlemi: Bölünen: 722 | Bölün: 38 | Bölüm: 19 | Kalan: 11 |

8.

$$\begin{array}{r} 327 \\ \times 29 \\ \hline ABCD \end{array}$$

Yukarıdaki çarpma işleminin sonucu harflerle gösterilmiştir.

Buna göre harflerle yapılan aşağıdaki işlemlerden hangisinin sonucu diğerlerinden büyük bir sayı olur?

- A) $B \times D$ B) $A \times B$ C) $A \times C$ D) $C \times D$

9. Konuşmasına göre Melis'in almak istediği kulaklık kaç liradır?

- A) 985
B) 980
C) 890
D) 870



Her ay 185 TL biriktirirsem istediğim kulaklığı 5 ayda alabiliyorum. Üstelik 2 tane 20 TL ve 3 tane 5 TL param artıyor.

1. Aşağıdaki bölme işlemlerinden hangisinde bölümün basamak sayısı **yanlış** tahmin edilmiştir?

A)

2

$$\begin{array}{r} 378 \overline{) 6} \\ \hline \end{array}$$

B)

3

$$\begin{array}{r} 516 \overline{) 3} \\ \hline \end{array}$$

C)

3

$$\begin{array}{r} 804 \overline{) 7} \\ \hline \end{array}$$

D)

2

$$\begin{array}{r} 429 \overline{) 4} \\ \hline \end{array}$$

2. Yandaki bölme işlemini yaparken aşağıdakilerden hangisini **söylemeyiz**?

$$\begin{array}{r} 2983 \overline{) 5} \\ \hline \end{array}$$

- A) 29'da 5, 5 kere vardır.
- B) 48'de 5, 9 kere vardır.
- C) 36'da 5, 7 kere vardır.
- D) 33'te 5, 6 kere vardır.

3.



Bir fabrikada 816 kadın, kadınlardan 198 az erkek işçi çalışmaktadır. Ay sonunda bu fabrikaya 57 işçi alınmış, 34 işçi ise işten çıkmıştır.

Son durumda fabrikadaki işçi sayısı kaç olmuştur?

- A) 1455
- B) 1457
- C) 1547
- D) 1655

4. Elif ile Can zihinden bölme işlemi yapıyorlardı. Elif, işlemi yaparken sayının sonundan 2 sıfır sildi. Can 3 sıfır silerek işlemi kolayca yaptı. Buna göre Elif ile Can'ın yaptıkları işlemler hangi seçenekte verilenler olabilir?

Elif	Can
A) $17\ 000 \div 100$	$75\ 000 \div 1000$
B) $8000 \div 1000$	$9000 \div 100$
C) $34\ 000 \div 10$	$52\ 000 \div 100$
D) $6000 \div 100$	$16\ 000 \div 100$

5.

$$\begin{array}{r} 4376 \\ + 2095 \\ \hline \end{array}$$

$$\begin{array}{r} 7072 \\ - 3897 \\ \hline \end{array}$$

Yukarıdaki işlemlerde toplam ve farkın hangi basamaklarındaki rakamlar aynıdır?

- A) Birler
- B) Onlar
- C) Yüzler
- D) Binler

6.

$$\begin{array}{r} 846 \overline{) 37} \\ \hline \end{array}$$

Yukarıdaki bölme işleminin sonucu bölünen en yakın yüzlüğe, bölen en yakın onluğa yuvarlanarak tahmin edilecektir. Ardından işlemin gerçek sonucu bulunacaktır.

İşlemler yapıldığında gerçek sonuç ile tahmin sonucu arasındaki fark kaç olur?

- A) 8
- B) 6
- C) 4
- D) 2

12. Aşağıdaki deyimlerden hangisi karşısındaki açıklamayla **uyuşmamaktadır**?

- A) Ağzı kulaklarına varmak → Çok sevinmek.
 B) Ağzı açık kalmak → Çok şaşır-mak.
 C) Ağzı sulanmak → Yeme, içme isteği artmak.
 D) Ağzına geleni söylemek → Dikkatli ve özenli konuşmak.

13.

Tiyatro olan bir yerde kötülükler ve hatalar sürüp gitmez. Çünkü hayatın yansıtıldığı sahnelerde oyuncular, insanlığa ayna olurlar. İnsanlar, onlarda kendilerini görürler. Oyuncular, insanlara ne olduklarını, ne olmak istediklerini ve ne olmaktan korktuklarını gösterirler.

Bu paragrafın ana fikri aşağıdakilerden hangisidir?

- A) İnsanlar, korkularını yenmek için tiyatroya gitmelidir.
 B) Tiyatronun insanların eğitiminde önemli bir rolü vardır.
 C) İnsanlar, seçecekleri mesleğe tiyatro sayesinde karar verirler.
 D) Tiyatro izlemek kötü insanların iyi olmasını sağlar.

14.

	G				
T	E	M	B	E	L
	R				
Ç	İ	F	T		

İlke, bulmacadaki sözcüklerin zıt anlamlılarını birer cümlede kullanıp defterine yazmıştır.

Buna göre hangisi İlke'nin yazdığı cümlelerden biri **olamaz?**

- A) Filmin ortasında dışarı çıkmak istese de buna engel oldum.
 B) Annem tek kalan çoraplardan bize kukla yaptı.
 C) Çalışkan insanlar işlerini büyük bir ciddiyet ve kararlılıkla yaparlar.
 D) Duvardaki saatin beş dakika ileri olduğunu yeni fark etmiştik.

15.

Amcamlar bu sene tarlaya sebze ekmek istemiyorlar.

Bu cümledeki sözcüklerle ilgili olarak aşağıdakilerden hangisi **yanlıştır?**

- A) "Tarıma elverişli toprak parçası." anlamında sözcük vardır.
 B) "Yıl" sözcüğünün eş anlamlısı kullanılmıştır.
 C) "Ekmek" sözcüğü eş seslidir.
 D) "İstemek" sözcüğünün zıt anlamlısı geçmektedir.

8. Yaprak dökme zamanı geldiğinde ağaç, yapraklarda bulunan tüm yararlı maddelerini özümser. Geriye kalan işe yaramaz maddeleri yaprakları ile döker. İşte, yaprağa sırası ile sarı, kahverengi ve kırmızı rengi veren de budur.

Bu parçanın konusu aşağıdakilerden hangisidir?

- A) Yapraklardaki renk değişimi
B) Yaprakların görevleri
C) Ağaçların özellikleri
D) Yeşil yapraklı bitkiler

9. I. Gülçin ablam denizin derin yerlerinde de yüzebiliyor.
II. Sunumum için yaptığım derin araştırmaların sonuna geldim.
III. Bu derin kuyunun ağzını kapatmaları iyi olmuş.
IV. Annem aşure yapmak için derin bir tencere kullandı.

"Derin" sözcüğü yukarıdaki cümlelerin hangisinde mecaz anlamda kullanılmıştır?

- A) I
B) II
C) III
D) IV

10.



Çocuklar, kişinin çocukluğundaki huyları, özellikle yaşlılığında da değişmez.

Yasemin Öğretmen'in konuşması aşağıdaki atasözlerinden hangisinin açıklamasıdır?

- A) İyi insan sözünün üstüne gelir.
B) İnsanın kıymetini insan bilir.
C) İnsan yedisinde ne ise yetmişinde de odur.
D) Suyun sessizinden, insanın söz-süzünden korkmalı.

11. ● İki noktadan sonra cümle geliyorsa büyük harfle başlar.
● Kitap, dergi, kurum ve kuruluş adları büyük harfle başlar.
● Hayvanlara verilen adlar büyük harfle başlar.
● Gezegen ve yıldız adları büyük harfle başlar.

Yukarıda büyük harflerin kullanıldığı yerlerden bazıları verilmiştir.

Aşağıdaki cümlelerden hangisi verilenlere uygun bir örnek **değildir**?

- A) Venüs, Dünya'ya en yakın gezegendir.
B) Dergimizin adı oy birliğiyle "Adım" oldu.
C) Aslı bir Kedi sahiplenmek istiyordu.
D) Ablama seslendim: İyi şanslar!

6. ● Günlük planımda yaz kış değişmeyen etkinlikler vardır. Uyku, kitap okuma, oyun oynama, dinlenme gibi.

■ Okul servisimiz yolda arıza yaptığı için başka bir servis aracı gelip bizi okula götürdü.

◆ Karanlıkta karşıma çıkan kedinin gözleri tıpkı bir araba farı gibi parlıyordu.

Esra, yukarıdaki cümleleri "benzetme cümlesi - örneklendirme cümlesi - neden sonuç cümlesi" şeklinde sıralayacaktır.

Esra etkinliği doğru yaptığında semboller hangi seçenekteki gibi sıralanır?

- A) ● - ◆ - ■ B) ◆ - ● - ■ C) ◆ - ■ - ● D) ● - ■ - ◆

7.

Belirli bir tarih bildiren ay ve gün adlarına gelen ekleri ayırmak için kullanılır.

Sayılara getirilen ekleri ayırmada kullanılır.

Özel adlara ve ünvanlara getirilen ekleri ayırmada kullanılır.

Kısaltmalara getirilen ekleri ayırmak için kullanılır.

Yukarıdaki kartların arkasına kesme işaretinin kullanım alanına uygun cümleler yazılacaktır.

Buna göre uygun cümleler hangi kartın arkasına yazılan örnek kullanım alanına uygun **olmaz**?

A) Yaş günlerimizi söylerken Kasım'da doğanların çok olduğunu fark ettik.

B) 999'dan sonra gelen ve on bine kadar olan sayılar dört basamaklıdır.

C) Sınıfça Kaymakam Erol Bey'i makamında ziyaret edip ona sorular sorduk.

D) TÖMER'in yayınlarını resmi internet sitesinden takip edebilirsiniz.

Kendilerine "İlkbahar" ismini veren üç kardeş ay, dünyaya misafir olmaya geldiğinde havalar ısınmaya, çayırlar yeşillenmeye başlar. Göçmen kuşlar, leylekler ve kırlangıçlar bırakıp gittikleri yuvalarına döner. Ayılar, yılanlar, kaplumbağalar kış uykusundan uyanır. Kuzuların ve tavşanların yavruları olur. Bütün meyve ağaçları çiçek açar, sonra da dallarında erik, şeftali ve kayısılar büyümeye başlar. Çocuklar kırlarda uçurtma uçurmaya gider.

1, 2 ve 3. soruları yukarıdaki metne göre yanıtlayalım.

1. Metinde ilkbaharın aşağıdakilerden hangisi üzerindeki etkisinden söz edilmemiştir?

- A) Kuşlar B) Çocuklar
C) Balıklar D) Ağaçlar

2. Metindeki hangi durum hayali bir ifadedir?

- A) Ayların kardeş olup kendilerine isim vermesi
B) Çocukların kırlarda uçurtma uçurtmaya gitmesi
C) Bazı hayvanların kış uykusundan uyanması
D) Ağaçların dallarında meyvelerin büyümeye başlaması

3. Aşağıdakilerden hangisi metne uygun bir başlıktır?

- A) Göçmen Kuşlar
B) Meyve Ağaçları
C) Üç Kardeş Ay: İlkbahar
D) Çocuklar

4. Bu kıyılar Karadeniz kıyılarıdır, Koşsan bir günde ulaşamazsın Şu tepeden, o tepeye. Çamlar, köknarlar, kayınlar el ele vermiş, Uzanır gider tepelerden tepeye...

Bu kıyılarda maviyi denizden iç, Yeşili dağlardan,

Doyabilirsen doy sonsuz güzelliğe...

Coşkun ERTEPINAR

Bu şiirin ana duygusu aşağıdakilerden hangisidir?

- A) Karadeniz'e duyulan hayranlık
B) Doğayı korumanın önemi
C) Denize duyulan özlem
D) Ağaç sevgisi

5. Aşağıdaki cümlelerin hangisinde "duygu" sözcüğünün eş anlamlısı kullanılmıştır?

- A) Çok korkunca annesi su vermiş.
B) Mutluluğumu ailemle paylaştım.
C) Ağlayarak yanımıza geldi.
D) Hislerimi yazarak anlatmayı sevmeyim.