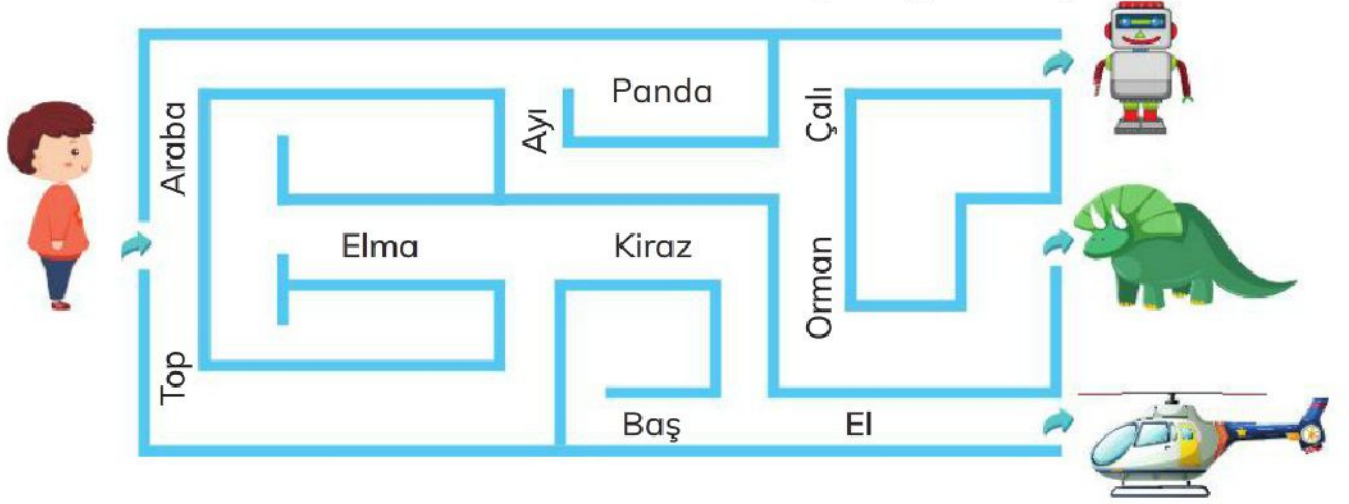


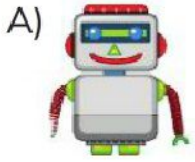
Adı:

Soyadı:

1 Ahmet, labirentte kelimelerin ilk harfinin sesli oluşuna göre ilerliyor.



Buna göre Ahmet, hangi oyuncuğun olduğu çıkışa ulaşır?



2 Aşağıda bir nesne ile ilgili ipuçları verilmiştir.

Altında tekerlekleri var.

Ayağa giyilir.

Hızla hareket etmenizi sağlar.

Daha çok düz zeminlerde kullanılır.

?

Aşağıdakilerden hangisi ipuçları verilen nesnenin görselidir?



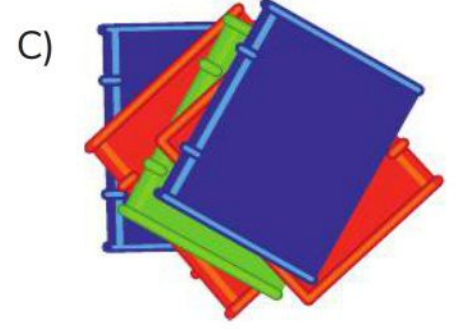
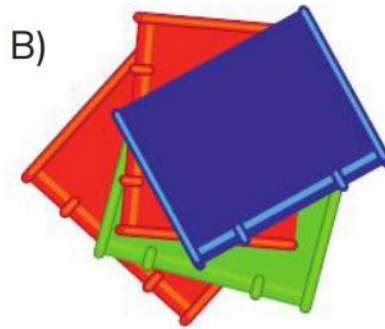
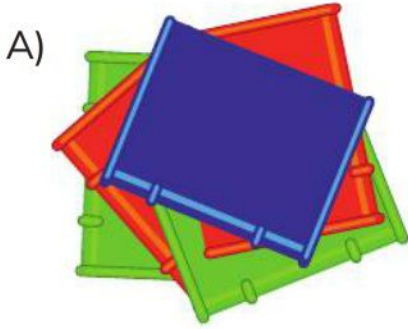
Adı:

Soyadı:

3 Enes, odasını toplarken sehpanın üstüne konmuş dört kitabı kaldırıp kitaplığındaki raflara yerleştiriyor.

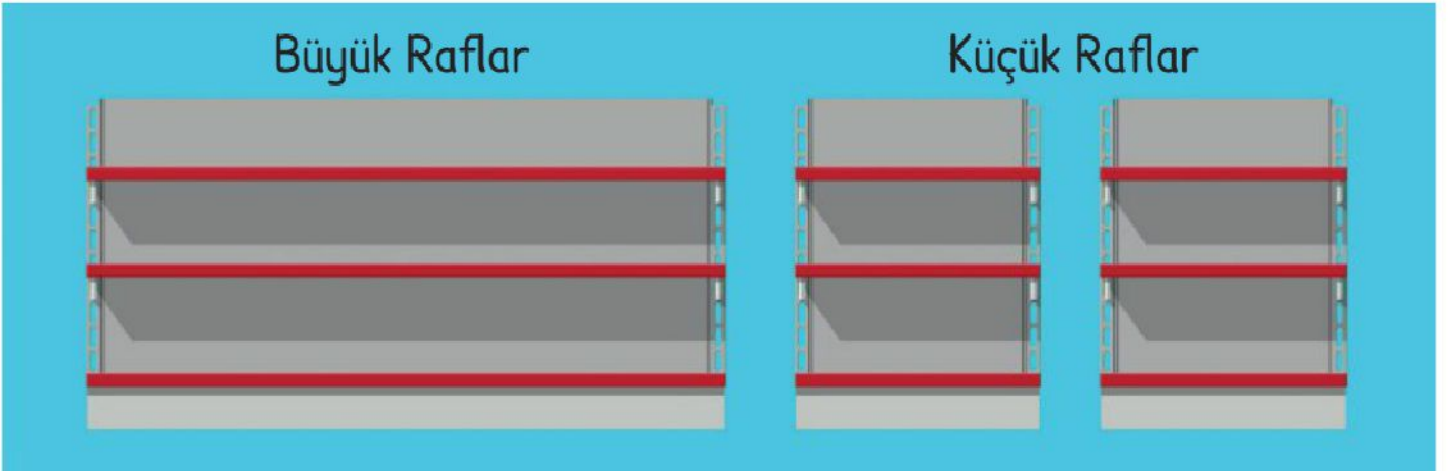


Enes, sehpanın üstünde duran dört kitabı üstten bakınca nasıl görür?



4

Aşağıdaki görselde bir markette bulunan 3 bölmeli büyük raf ile üçer bölmeli küçük raflar verilmiştir.



Bu markete 30 tane konserve gelmiştir. Market görevlisi marketin büyük raflarının her birine 6 tane konserve koymuş, kalan konserveyi de eşit olarak küçük raflara yerleştirmiştir.

Buna göre her bir küçük rafa kaç tane konserve yerleştirilmiş olur?

A) 2

B) 3

C) 4