

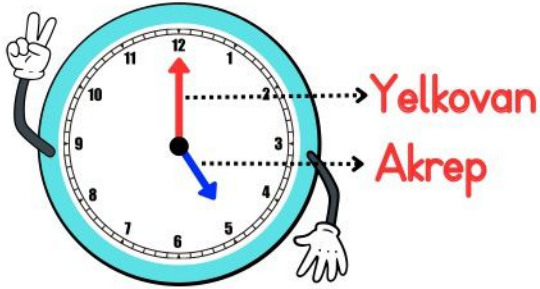
2. Sınıf

Zamanı Okuyalım ve Yazalım

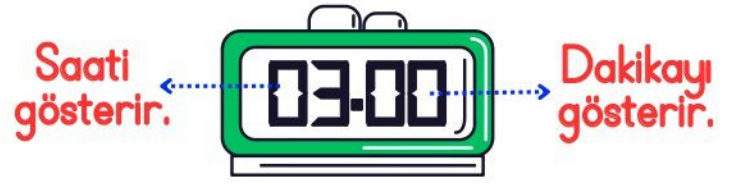
Zamanı ölçmek için kullanılan araca **saat** denir. Saatin üzerinde sayıların yazılı olduğu saat ve dakikayı gösteren kolların bulunduğu alana **kadran** denir. Kadranın üzerinde 1'den 12'ye kadar rakamlar yazılıdır.

Günlük hayatta dijital ve analog olmak üzere iki çeşit saat kullanırız.

Analog Saat




Dijital Saat



Saat üzerinde bulunan kısa kola **akrep** denir. Akrep saati gösterir. Uzun kola ise **yelkovan** denir. Yelkovan ise dakikayı gösterir.

► **1 saat 60 dakikadır. Saatin üzerindeki her bir rakam arası 5 dakikadır.**



Tam Saatler

Yazılışı: 05.00
Okunuşu: Saat beş

Tam saatlerde akrep sayının üzerinde, yelkovan ise 12'nin üzerinde olur. Tam saat dakikanın "00" olduğunu belirtir.

► Aşağıdaki tam saatlerin okunuşlarını altındaki noktalı alana yazınız.



Saat iki.....

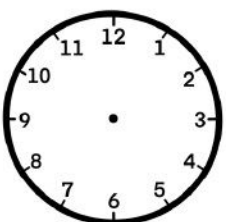
.....

.....

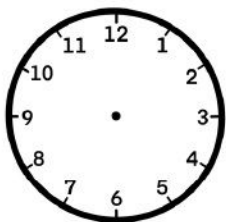
.....

.....

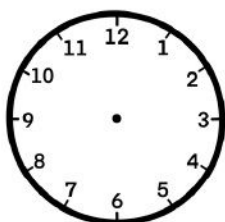
► Aşağıda okunuşu verilen saatleri çiziniz.



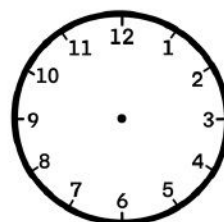
Saat bir



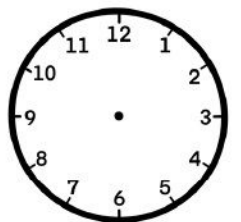
Saat üç



Saat on



Saat dört



Saat sekiz

Aşağıdaki saatlerin kaçı gösterdiklerini örnekteki gibi altlarına yazınız.



09.00



.



.



.



.



.



.



.

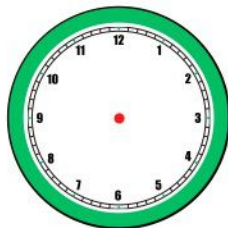
Aşağıdaki dijital saatler ile gösterilen saatlerin okunuşlarını yazalım.
Analog saat üzerinde akrep ve yelkovanları çizerek gösterelim.




.....
.....



.....
.....



.....
.....

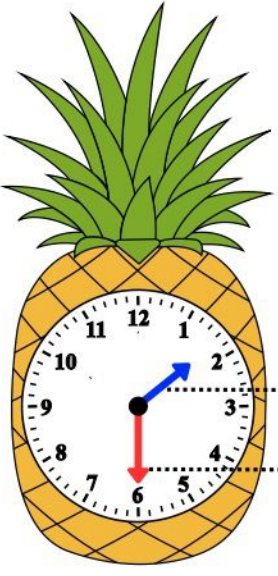


.....
.....



.....
.....

Yarım Saatler



Yazılışı: 01.30
Okunuşu: Saat bir buçuk

Akrep

Yelkovan

Yarım saatlerde akrep, iki sayının tam orta kısmında, yelkovan ise 6'nın tam üstünde olur.

Yarım saat dakika kısmının "30" olduğunu ifade eder.

Yarım saatlere "buçuk" denir.

30 dakikaya yarım saat denir.

1 saat içinde iki yarım saat bulunur.

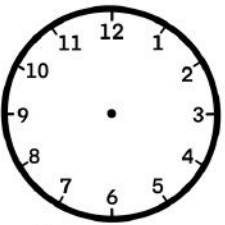
► Aşağıdaki yarım saatlerin okunuşlarını altındaki noktalı alana yazınız.



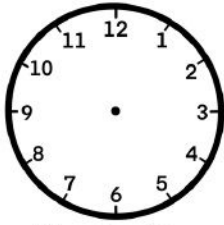
Saat iki buçuk.



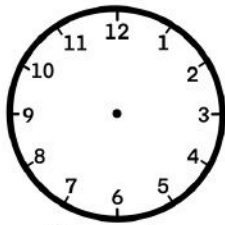
► Aşağıda okunuşu verilen yarım saatleri çizin.



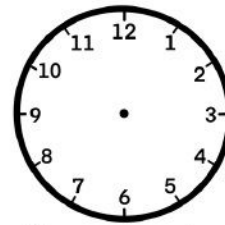
Saat bir buçuk



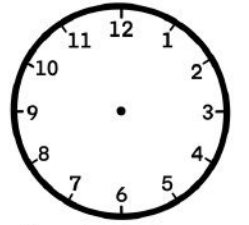
Saat altı buçuk



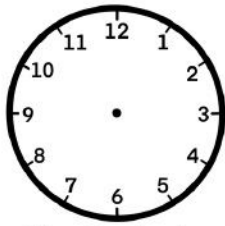
Saat iki buçuk



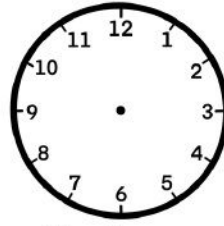
Saat on iki buçuk



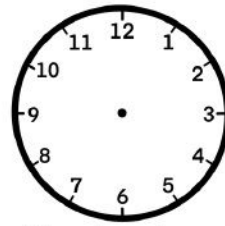
Saat dokuz buçuk



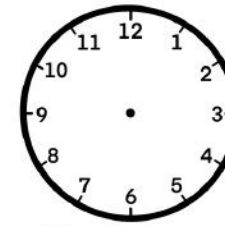
Saat dört buçuk



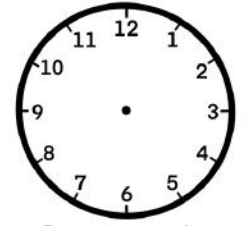
Saat on buçuk



Saat sekiz buçuk



Saat beş buçuk



Saat yedi buçuk

Aşağıdaki saatlerin kaçı gösterdiklerini örnekteki gibi altlarına yazınız.



01.30



.



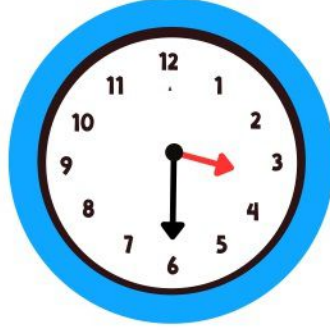
.



.



.



.

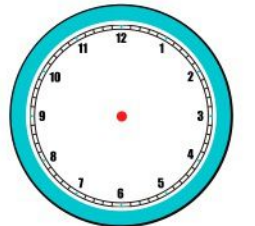
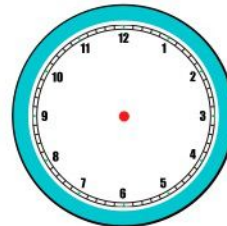
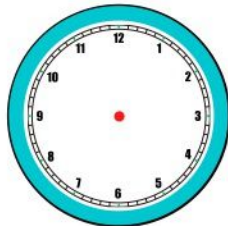

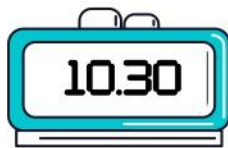


.



.

Aşağıdaki dijital saatler ile gösterilen saatlerin okunuşlarını yazalım.
Analog saat üzerinde akrep ve yelkovanları çizerek gösterelim.



.....
.....

.....
.....

.....
.....

.....
.....

.....
.....

Çeyrek Saatler



Akrep

Yelkovan

Bir saatte dört çeyrek saat vardır. Yelkovan 3 rakamının üzerinde olursa "Çeyrek geçiyor." diye okunur.

Çeyrek geçiyor ifadesi dakika kısmının 15 olduğunu belirtir.

Yazılışı: 01.15

Okunuşu: Saat biri çeyrek geçiyor.

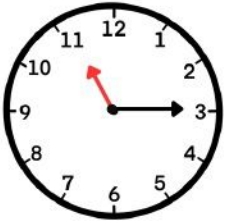
► Aşağıdaki saatlerin okunuşlarını altındaki alana örnekteki gibi yazınız.



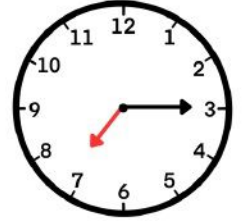
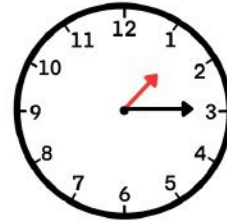
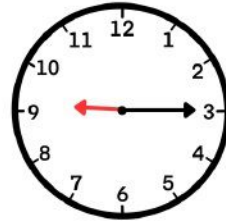
12'yi çeyrek geçiyor



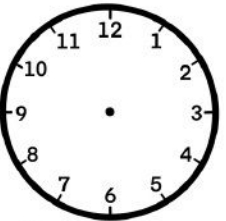
► Aşağıda verilen çeyrek saatleri örnekteki gibi yazınız.



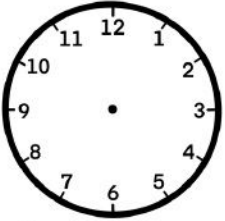
11.15



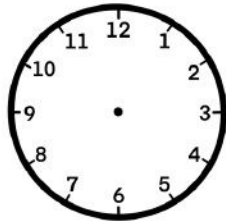
► Aşağıda okunuşu verilen çeyrek saatleri çiziniz.



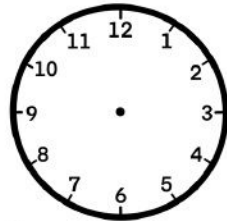
Saat onu çeyrek geçiyor



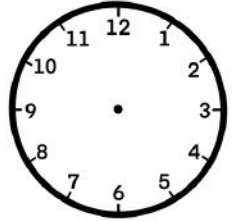
Saat altı çeyrek geçiyor



Saat üç çeyrek geçiyor



Saat dokuz çeyrek geçiyor



Saat on iki çeyrek geçiyor

Aşağıdaki saatlerin kaçı gösterdiklerini örnekteki gibi altlarına yazınız.



08.15



.



.



.




.



.

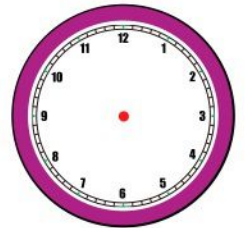

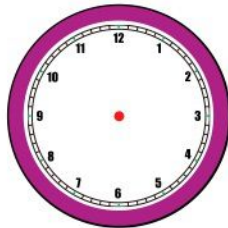
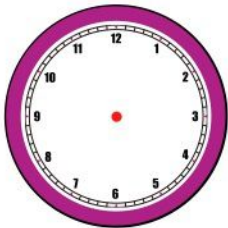



.



.

Aşağıdaki dijital saatler ile gösterilen saatlerin okunuşlarını yazalım.
Analog saat üzerinde akrep ve yelkovanları çizerek gösterelim.



.....
.....

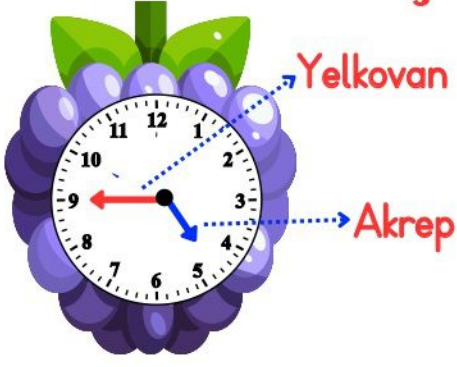
.....
.....

.....
.....

.....
.....

.....
.....

Çeyrek Saatler



Bir saatte dört çeyrek saat vardır. Yelkovan 9 rakamının üzerinde olursa "Çeyrek var." diye okunur.

Çeyrek var ifadesi dakika kısmının "45" olduğunu belirtir.

! Bu saatleri okurken akrebin gösterdiği sayıya DEĞİL, akrebin yaklaştığı sayıya BAKARIZ.

Yazılışı: 04.45

Okunuşu: Saat beşe çeyrek var.

► Aşağıdaki saatlerin yazılışlarını altındaki alana örnekteki gibi yazınız.



11.45



.

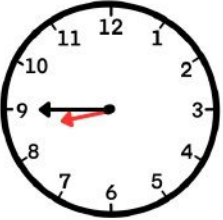


.

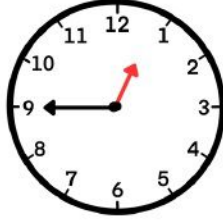


.

► Aşağıdaki saatlerin okunuşlarını altındaki alana örnekteki gibi yazınız.



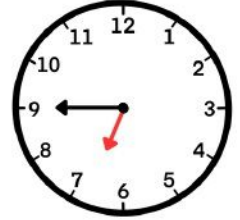
8'e çeyrek var.



.....

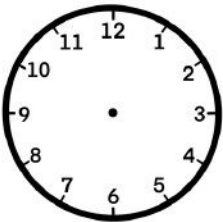


.....

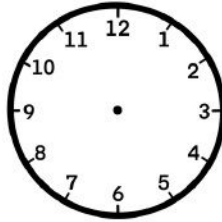


.....

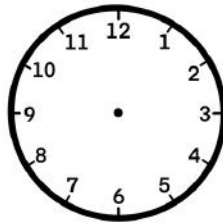
► Aşağıda okunuşu verilen çeyrek saatleri çizin.



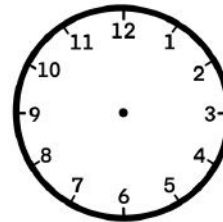
Saat ikiyi çeyrek var



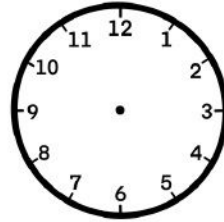
Saat dördü çeyrek geçiyor



Saat sekizi çeyrek geçiyor



Saat on biri çeyrek geçiyor




Saat dokuzu çeyrek geçiyor


Aşağıdaki saatlerin kaçı gösterdiklerini örnekteki gibi altlarına yazınız.



01.45




.




.



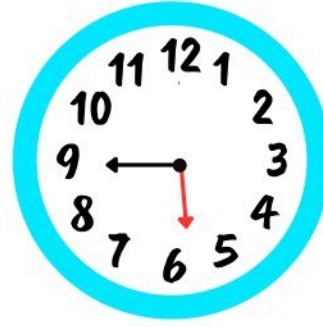
.




.



.




.



.

Aşağıdaki dijital saatler ile gösterilen saatlerin okunuşlarını yazalım.
Analog saat üzerinde akrep ve yelkovanları çizerek gösterelim.



.....
.....

.....
.....

.....
.....

.....
.....

.....
.....