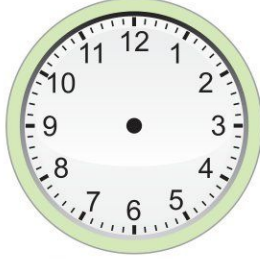


Saatleri Öğrenelim


Etkinlik: Dijital olarak verilmiş saatleri çizerek gösteriniz.




03 : 15



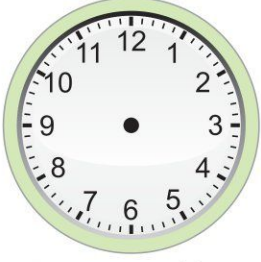
04 : 15



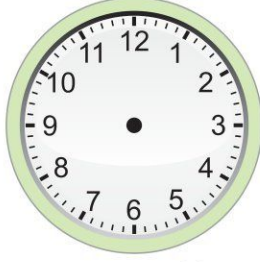
08 : 15




06 : 15



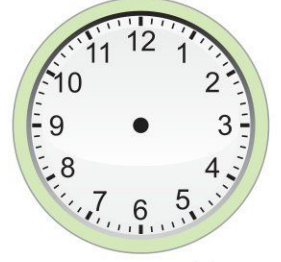
12 : 15



01 : 15



07 : 15



10 : 15



02 : 15



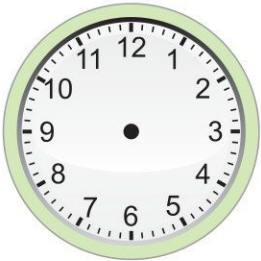
03 : 45



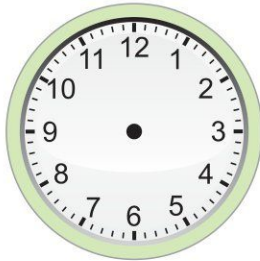
05 : 45




12 : 45



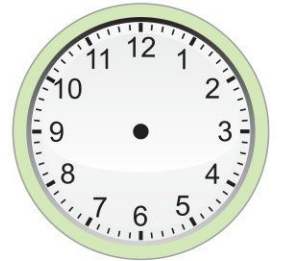
06 : 45



07 : 45




01 : 45



03 : 45



Saatleri Öğrenelim

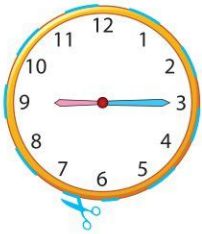
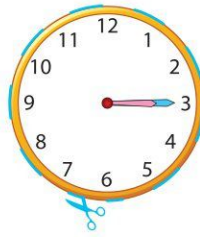
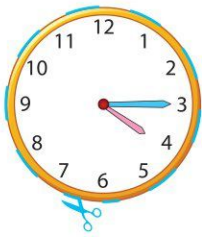
Etkinlik: Dijital olarak verilmiş saatleri çizerek gösteriniz.



Saatleri Öğrenelim

Etkinlik: Dijital saatlerde yazan saatleri analog saatlerin arasından seçip uygun yere yapıştırınız.

| | | | | | |
|--|--|--|---|--|--|
|  yapıştırınız |  yapıştırınız |  yapıştırınız |  yapıştırınız |  yapıştırınız |  yapıştırınız |
|  |  |  |  |  |  |
|  yapıştırınız |  yapıştırınız |  yapıştırınız |  yapıştırınız |  yapıştırınız |  yapıştırınız |
|  |  |  |  |  |  |



Saatleri Öğrenelim

Etkinlik: Dijital olarak verilmiş saatleri çizerek gösteriniz.



07 . 45



12 . 45



03 . 45



06 . 45



08 . 45



02 . 45



11 . 45



05 . 45



01 . 45



04 . 45



10 . 45



09 . 45



22 . 45



18 . 45

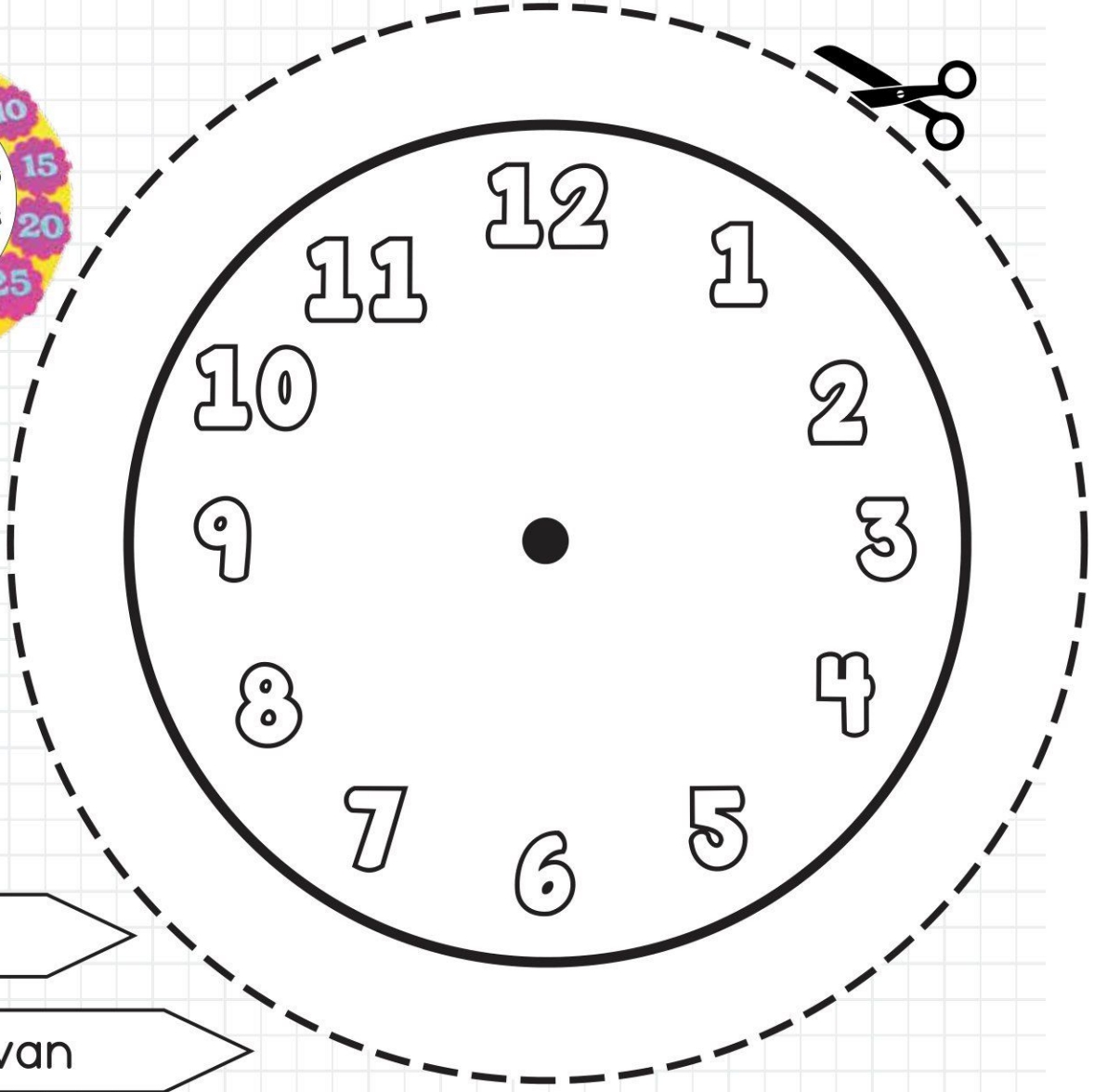
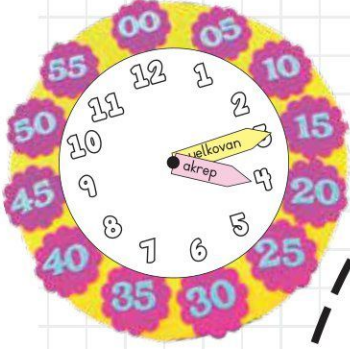


16 . 45



17 . 45

Etkinlik: Saat modeli yapınız.



akrep

yelkovan

00

05

10

15

20

25

30

35

40

45

50

55

Etkinlik: Dijital olarak verilmiş saatleri çizerek gösteriniz.



10 . 15



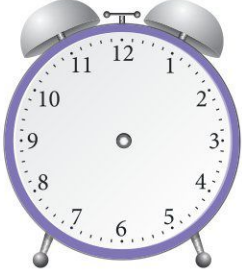
01 . 15



05 . 15



07 . 15



04 . 15




18 . 15



02 . 15



12 . 15



16 . 15



03 . 15



09 . 15



22 . 15



17 . 15



08 . 15



11 . 15



06 . 15

Etkinlik: Aşağıdaki saatleri öğleden önce (ÖÖ), öğleden sonra (ÖS) şeklinde yazınız.



ÖÖ : 03 : 15

ÖS : 15 : 15



ÖÖ :

ÖS :



ÖÖ :

ÖS :

Ö.Ö = Öğleden önce
Ö.S = Öğleden sonra



ÖÖ :

ÖS :



ÖÖ :

ÖS :



ÖÖ :

ÖS :



ÖÖ :

ÖS :



ÖÖ :

ÖS :



ÖÖ :

ÖS :



ÖÖ :

ÖS :



ÖÖ :

ÖS :



ÖÖ :

ÖS :



ÖÖ :

ÖS :



ÖÖ :


ÖS :



ÖÖ :


ÖS :

Etkinlik: Analog olarak verilmiş saatleri Ö.Ö ve Ö.S olarak yazınız.



Ö.Ö :
01.15


Ö.S :
13.15



Ö.Ö :
.....


Ö.S :
.....

Ö.Ö = Öğleden
önce
Ö.S = Öğleden
sonra




Ö.Ö :
.....

Ö.S :
.....




Ö.Ö :
.....

Ö.S :
.....




Ö.Ö :
.....

Ö.S :
.....




Ö.Ö :
.....

Ö.S :
.....




Ö.Ö :
.....

Ö.S :
.....




Ö.Ö :
.....

Ö.S :
.....




Ö.Ö :
.....

Ö.S :
.....




Ö.Ö :
.....

Ö.S :
.....



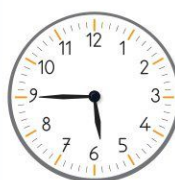
Ö.Ö :
.....

Ö.S :
.....




Ö.Ö :
.....

Ö.S :
.....




Ö.Ö :
.....

Ö.S :
.....




Ö.Ö :
.....

Ö.S :
.....




Ö.Ö :
.....

Ö.S :
.....



Ö.Ö :
.....

Ö.S :
.....



Ö.Ö :
.....

Ö.S :
.....

Etkinlik: Saatlerin okunuşlarını bulup altlarına yapıştırınız.



On bir on beş

Sekiz kırk beş

On bir kırk beş

Biri çeyrek geçiyor

Altıya çeyrek var

On dört on beş

On beş kırk beş

On altı on beş

Etkinlik: Analog saatleri uygun dijital saatlere yapıştırınız.

